



BA – AÖL / 2012 – III.DÖNEM - Pazar 13.00

## BEŞİNCİ OTURUM

TEST GRUBUNUZ

# A

CEVAP KÂĞIDINIZA İŞARETLEMİYİ UNUTMAYINIZ.

### ÖĞRENCİNİN

SOYADI : .....

ADI : .....

ÖĞRENCİ NO : .....

SINAV SALON NO: ..... SIRA NO: .....

*Soyadınızı, adınızı, öğrenci numaranızı, salon ve sıra numaranızı yukarıya yazmayı unutmayınız.*

### GENEL AÇIKLAMA

1. Bu soru kitapçığındaki testler şunlardır:

| Testin Adı                          | Soru Sayısı | Sayfa No |
|-------------------------------------|-------------|----------|
| DİN KÜLTÜRÜ VE AHLAK BİLGİSİ 2      | 20          | 2        |
| DİN KÜLTÜRÜ VE AHLAK BİLGİSİ 5      | 20          | 4        |
| TARİH 3                             | 20          | 6        |
| TC İNKILÂP TARİHİ VE ATATÜRKÇÜLÜK 1 | 20          | 9        |
| COĞRAFYA 5                          | 20          | 12       |
| MATEMATİK 1                         | 20          | 14       |
| TURİZM 2                            | 20          | 17       |
| HUKUK 2                             | 20          | 20       |
| DİL VE ANLATIM 8                    | 20          | 22       |
| TÜRK EDEBİYATI 4                    | 20          | 24       |
| TÜRK EDEBİYATI 6                    | 20          | 26       |

| Testin Adı                                  | Soru Sayısı | Sayfa No |
|---|-------------|----------|
| FİZİK 5                                     | 20          | 28       |
| EKONOMİ 1                                   | 20          | 30       |
| BİYOLOJİ 6                                  | 20          | 32       |
| ÇAĞDAŞ TÜRK VE DÜNYA TARİHİ 2               | 20          | 34       |
| SEÇMELİ COĞRAFYA 3                          | 20          | 36       |
| SEÇMELİ YABANCI DİL 4 (ALM.4, FRA.4, İNG.4) | 20          | 38       |
| SAĞLIK BİLGİSİ 1                            | 20          | 47       |
| SEÇMELİ COĞRAFYA 4                          | 20          | 49       |
| SEÇMELİ TÜRK EDEBİYATI 5                    | 20          | 51       |
| GEOMETRİ 5                                  | 20          | 53       |
| SEÇMELİ DİLVE ANLATIM 8                     | 20          | 57       |

2. Bu kitapçıkta yer alan her bir test için cevaplama süresi **30** dakika, toplam sınav süresi **150** dakikadır.
3. Cevaplamaya istediğiniz testin, istediğiniz sorusundan başlayabilirsiniz. Yalnız cevaplarınızı, cevap kâğıdında o test için ayrılmış olan bölümdeki aynı numaralı cevap yerine işaretlemeyi unutmayınız.
4. Cevaplarınızı koyu siyah ve yumuşak bir kurşunkalemle işaretleyiniz. İşaretinizi cevap yerinin dışına taşırmayınız. Tükenmez veya mürekkepli kalem kullanmayınız.
5. Değiştirmek istediğiniz bir cevabı yumuşak bir silgi ile, cevap kâğıdını örselemeden temizce siliniz ve doğru cevabınızı işaretlemeyi unutmayınız.
6. Cevap kâğıdınızı buruşturmayınız, katlamayınız ve üzerine gereksiz hiçbir işaret koymayınız.
7. Bu kitapçıkta her sorunun bir tek doğru cevabı vardır. Bir soru için birden çok cevap yeri işaretlenmişse o soru yanlış cevaplanmış sayılacaktır.
8. Cevaplarınız puanlanırken her doğru cevabınıza eşit puan verilecek, yanlış cevaplarınız dikkate alınmayacaktır. Bu nedenle kitapçıkta tüm sorular için size doğru gelen seçeneği işaretleyerek cevapsız soru bırakmamanız yararınıza olacaktır.
9. Kitapçığın sayfalarındaki boş yerleri müsvedde için kullanabilirsiniz.

Anadolu Üniversitesi tarafından hazırlanmış olan bu testlerin her hakkı saklıdır. Hangi amaçla olursa olsun, testlerin tamamının veya bir kısmının Anadolu Üniversitesi'nin yazılı izni olmadan kopya edilmesi, fotoğraflarının çekilmesi, herhangi bir yolla çoğaltılması, yayımlanması ya da kullanılması yasaktır. Bu yasağa uymayanlar gerekli cezai sorumluluğu ve testlerin hazırlanmasındaki mali külfeti peşinen kabullenmiş sayılır.

# DİN KÜLTÜRÜ VE AHLAK BİLGİSİ 2

# A

2012 3D 0105-A

1. İlahi dinlere göre yaratılan ilk insan ve ilk peygamber kimdir?

- A) Hz. Yakup
- B) Hz. Süleyman
- C) Hz. İsa
- D) Hz. Yusuf
- E) Hz. Adem

2. Aşağıdakilerden hangisi dinin yasakladığı davranışlardan biridir?

- A) Dürüst davranmak
- B) Doğru söylemek
- C) Cömert olmak
- D) Kıskanç olmak
- E) Hayırsever olmak

3. Aşağıdakilerden hangisi Türk milletini birleştiren değerlerden biri değildir?

- A) Sömürgecilik
- B) Bayrak
- C) Bağımsızlık
- D) Atatürk
- E) Vatan ve ülkü birliği

4. Aşağıdakilerden hangisi insanın yaşadığı ülkenin vatandaşı olmakla sahip olduğu haklardan biri değildir?

- A) Eğitim
- B) Sağlık hakkı
- C) Beslenme
- D) Seçme ve seçilme hakkı
- E) İnanmak

5. Aşağıdakilerden hangisi Türk milletinin milli seciyelerinden biri değildir?

- A) Yiğitlik
- B) İradesiz yaşama
- C) Minnetsiz yaşama
- D) Büyüklere saygı
- E) Hoşgörülü olma

6. Aşağıdakilerden hangisi ilâhi dinlerden biridir?

- A) Şintoizm
- B) Konfüçyüsçülük
- C) Hinduizm
- D) Yahudilik
- E) Taoizm

7. Hz. Muhammed eş seçerken aranacak en önemli şartın ne olduğunu beyan etmiştir?

- A) Güzel olmak
- B) Soylu olmak
- C) Güzel ahlâklı olmak
- D) Eğitilmiş olmak
- E) Zengin olmak

8. Din ve devlet işlerinin birbirinden ayrılmasına, dinin de devletin de birbirlerine karışmamasına ne ad verilir?

- A) Demokrasi
- B) Devrimcilik
- C) Bağımsızlık
- D) Taassup
- E) Laiklik

9. Laiklik Avrupa'da hangi olaydan sonra yayılmıştır?

- A) Balkan Savaşı
- B) İkinci Dünya Savaşı
- C) Yüzyıl savaşları
- D) Birinci Dünya Savaşı
- E) Fransız ihtilali

10. Laik devlet ile ilgili aşağıdaki ifadelerden hangisi yanlıştır?

- A) Herkes dinini seçmekte özgürdür.
- B) Kanunları hazırlarken din kurallarına uygunluk kısıtı arar.
- C) Dini, bir vicdan meselesi olarak görür.
- D) Resmi bir dini yoktur.
- E) İnanç, cins, sınıf ayrımı yoktur.

# A

2012 3D 0105-A

11. Müslüman Türkler tarafından geliştirilen ve İslam alemine yayılan sanat dalı aşağıdakilerden hangisidir?

- A) Mimari
- B) Edebiyat
- C) Minyatür
- D) Heykeltçilik
- E) Musiki

12. "Emrolunduğun gibi dosdoğru ol..." ayetiyle anlatılmak istenen düşünce aşağıdakilerden hangisidir?

- A) Dürüst olmak
- B) Merhametli olmak
- C) Cesur olmak
- D) Yardımsever olmak
- E) Alçakgönüllü olmak

13. Aşağıdakilerden hangisi laiklik ilkesine uygun gelişmelerden biri değildir?

- A) Halifeliğin kaldırılması
- B) Medreselerin kapatılması
- C) Tekke ve Zaviyelerin kapatılması
- D) Din derslerinin yasaklanması
- E) Tevhid-i Tedrisat kanunu

14. Osmanlı imparatorluğu'nda sultanların, halife sıfatıyla padişah sıfatını siyasi anlamda bir arada kullanmaya başlaması hangi antlaşmadan sonra olmuştur?

- A) Lozan
- B) Ankara
- C) Küçük Kaynarca
- D) Sevr
- E) Karlofça

15. Kitap kenarlarının ve satır aralarının altın tozu, çiçek ve nakışlarla süslenmesine ne ad verilir?

- A) Ebrû
- B) Tezhip
- C) Tezyinat
- D) Hüsnü hat
- E) Minyatür

16. Aşağıdakilerden hangisi Ebu Mansur Maturidi'nin eserlerinden biridir?

- A) Muvatta
- B) Fıkıh-ı Ekber
- C) Te'vil-el Kur'an
- D) Kitabu'r-Risale
- E) Kitabü'l-Ümm

17. Divanı Hikmet adlı eser kime aittir?

- A) Hoca Ahmet Yesevi
- B) Hacı Bektaş Veli
- C) Mevlâna
- D) Yunus Emre
- E) Hacı Bayram Veli

18. Orhan Bey zamanında kurulan yeniçeri ordusunun ve yeniçeriliğin piri, manevi üstadı aşağıdakilerden hangisidir?

- A) Lokman-ı Perende
- B) Hacı Bektaş Veli
- C) Eş'ari
- D) İmam Şafii
- E) Ahi Evran

19. Mevlâna'nın hayatında dönüm noktası olan mürşidi aşağıdakilerden hangisidir?

- A) Hacı Bektaş Veli
- B) Raz'i
- C) Zemahşeri
- D) Şemsi Tebrizi
- E) Şeyh Yusuf Hemedani

20. Aşağıdakilerden hangisi müspet (fen) ilimleri alanında yetişmiş alimlerden biridir?

- A) Ali Kuşçu
- B) Ebu Hanife
- C) Zemahşeri
- D) Maturidi
- E) Raz'i

# DİN KÜLTÜRÜ VE AHLAK BİLGİSİ 5

# A

2012 3D 0105-A

1. Allah'ın, başlangıçtan sonsuza kadar olmuş ve olacak olan tüm olayların yerini ve zamanını bilip takdir etmesine ne ad verilir?

A) Kader  
B) Kaza  
C) Ecel  
D) Tevekkül  
E) Haşır

2. Aşağıdakilerin hangisinde "hayır"ın tanımı verilmiştir?

A) Gerçekleştirilmek istenen herhangi bir iş için gerekli olan hazırlıklar yapıldıktan sonra Allah'a güvenip sonucun hayırlı olmasını Allah'tan istemektir.  
B) Kötü, fena ve zararlı anlamlarına gelen, Allah'ın sevmediği, hoşlanmadığı ve yapılmasını istemediği davranışlardır.  
C) Allah'ın önceden takdir ettiği olayların, zamanı geldiğinde ortaya çıkmasıdır.  
D) İyi, güzel ve faydalı anlamlarına gelen, Allah'ın emrettiği, sevdiği ve yapılmasından hoşnut olduğu davranışlardır.  
E) İnsan yaşamının ve diğer canlılar için önceden tespit edilmiş sürenin sonuçlanmasıdır.

3. Aşağıdakilerden hangisi İslâm'ın temel inanç esaslarından biridir?

A) Kelime-i Şahadet getirmek  
B) Zekât vermek  
C) Hacca gitmek  
D) Oruç tutmak  
E) Kaza ve kadere inanmak

4. I. Cinsiyet  
II. Akıl sahibi olmak  
III. İnançlar  
IV. Aile

Yukarıdakilerden hangisi ya da hangileri insanın kaderini etkileyen değişmez unsurlardandır?

A) Yalnız I  
B) I ve II  
C) II ve IV  
D) I, II ve IV  
E) III ve IV

5. "...Gerçekten biz her şeyi belli bir ölçü ve denge içerisinde yarattık..." ayeti'nde kader kavramı ne ile ilişkilendirilmiştir?

A) Ekonomik ilişkiler  
B) Ahiret hayatına iman  
C) Evrendeki düzen ve uyum  
D) Sosyal yaşam  
E) Akıl sahibi olmak

6. Aşağıdakilerden hangisi "elhamdülillah" kelimesinin karşılığıdır?

A) Allah'ın verdiği sonsuz nimetlere şükretmek  
B) Allah'tan başka ilah olmadığını belirtmek  
C) Allah'ın büyüklüğünü ve yüce olduğunu zikretmek  
D) Her hayırlı işe Allah'ın adıyla başlamak  
E) Yüce Allah'ın her türlü eksiklikten uzak olduğunu belirtmek

7. Aşırı mülk edinme ve paylaşma konularında bireylerin istek ve arzularını düzenleme gibi olumlu etkileri en çok sağlayan ibadet türü aşağıdakilerden hangisidir?

A) Hacca gitmek  
B) Zekât vermek  
C) Çalışmak  
D) Oruç tutmak  
E) Namaz kılmak

8. Kişinin işlediği günah nedeniyle Allah'tan özür dilemesi ve bir daha suç işlememeye söz vermesine ne ad verilir?

A) Sabır  
B) Kudret  
C) Diğerkamlik  
D) Tövbe  
E) Sorumluluk

9. Aşağıdakilerden hangisi ibadetin toplumsal faydalarından biridir?

A) İnsanda güven duygusunu geliştirir.  
B) İnsanların birbirlerine kaynaşmasına katkıda bulunur.  
C) İnsanda sorumluluk bilinci geliştirir.  
D) İnsanın yaratan ile ilişkisini güçlendirir.  
E) İnsanın iç huzurunu güçlendirir.

# A

2012 3D 0105-A

10. Peygamberimiz döneminde görülen, müşriklerin, sıkıntı ve işkenceleri sonucu bütün mal varlıklarını hatta çoluk ve çocuklarını Mekke'de bırakıp, Medine'ye göç eden muhacirlere ensarların evlerini açıp, her şeylerini paylaşmaları hangi kavramla açıklanır?

- A) Dürüstlük
- B) Alçak gönüllülük
- C) Şükür
- D) Diğerkamlik
- E) Fedakarlık

11. Aşağıdakilerden hangisi Kur'an-ı Kerim'de tarif edilen örnek insanın özelliklerinden biri değildir?

- A) Anne babasına iyi davranan
- B) Hoşgörülü ve bağışlayıcı
- C) Kibirli ve gururlu
- D) Güvenilir
- E) Emanete hıyanet etmeyen

12. Hz. Muhammed'in torunu olan Hz. Hasan'ın soyundan gelenlere ne ad verilir?

- A) Semih
- B) Şerif
- C) Habibullah
- D) Furkan
- E) Seyyid

13. Aşağıdakilerden hangisi Hz. Muhammed'in özelliklerinden biri değildir?

- A) Sabırsız olması
- B) Güvenilir olması
- C) Merhametli olması
- D) Adaletli olması
- E) Hoşgörülü olması

14. Bir rubaisinde " Ben Hz. Muhammed'in ayağının tozuyum!" diyen Allah dostu aşağıdakilerden hangisidir?

- A) Dede Korkut
- B) Yunus Emre
- C) Hacı Bektaş Veli
- D) Ahmet Yesevi
- E) Mevlana

15. Hz. Muhammed'in hasta olan insanları bizzat evlerinde ziyaret edip, geçmiş olsun deyip onun için dua etmesi hangi özelliği ile ilgilidir?

- A) Adaletli olması
- B) Dürüst olması
- C) Otoriter olması
- D) Kolaylaştırıcı olması
- E) Merhametli olması

16. Yönetim yetkisinin Hz. Ali'nin soyuna ait olduğunu ve bu durumun Kıyamet'e kadar devam etmesi gerektiğine inanırlar. Hz. Ali, Hz. Muhammed'den sonra insanların en üstünüdür. En önemli temsilcisi İmamiyye'ye göre, vahiy ve atanmayla imamlığı öngörülen 12 kişi vardır. Açık veya gizli bir tehlike karşısında inancını gizleme (takiyye) esastır.

**Yukarıda anlatılan mezhep aşağıdakilerden hangisidir?**

- A) Haricilik
- B) Maturidilik
- C) Şiilik
- D) Mutezile
- E) Eşarilik

17. Hanefilik mezhebi ile ilgili aşağıdaki ifadelerden hangisi yanlıştır?

- A) Dini konuların çözümünde başvurulacak ana kaynak Kur'an-ı Kerim ve sünnettir.
- B) Osmanlı Devleti'nin resmi mezhebidir.
- C) Akıl ve mantık kurallarını bilimsel metodlar sonucunda kullanmıştır.
- D) Müslüman bilginlerin ortaya attığı fikir ve düşünceler icmadır.
- E) Malik b. Enes'in görüşlerinin etrafında oluşan bir mezheptir.

18. Kur'an-ı Kerim kaç yılında Hz. Muhammed'e vahiy yoluyla gönderilmiştir?

- A) 604
- B) 610
- C) 622
- D) 624
- E) 630

19. Hz. Ali ve Hz. Aişe arasında çıkan, daha sonraları Haricilik ve Şia gibi siyasi ve itikadi mezheplerin kurumsallaşmasına neden olan olay aşağıdakilerden hangisidir?

- A) Mutezile
- B) Takiyye
- C) Cemel Vakası
- D) Nübüvvet
- E) Tevhid

20. Ehli sünnet inancının sistemini oluşturan akım aşağıdakilerden hangisidir?

- A) Maturidilik
- B) Eşarilik
- C) Şiilik
- D) Mutezile
- E) Haricilik

## TARİH 3

# A

2012 3D 0105-A

1. XIV. yüzyıl başlarında Marmara denizi kıyılarına ve Trakya'ya hakim olan, taht kavgaları ve Haçlı seferleri nedeniyle Balkanlar ve Anadolu'daki kuvveti zayıflamış siyasal güç aşağıdakilerden hangisidir?

- A) Trabzon İmparatorluğu
- B) Venedik ve Ceneviz Kolonileri
- C) Türkiye Selçuklu Devleti
- D) Bizans İmparatorluğu
- E) Moskova Knezliği

2. Anadolu'nun güneyindeki bazı toprakları elinde tutan ve XIV. yüzyıl başlarında Yakın Doğu'da en güçlü devlet aşağıdakilerden hangisidir?

- A) Hersek Prenslığı
- B) Amavut krallığı
- C) Memlûkler
- D) Altın Orda Devleti
- E) Boğdan Voyvodalığı

3. Kayı kelimesinin anlamı aşağıdakilerden hangisinde birlikte verilmiştir?

- A) Ağaç ve genişlik
- B) Hız ve genişlik
- C) Güç ve kudret
- D) Ağaç ve kudret
- E) Güç ve hız

4. Osmanlı ordusu tarafından 1363 yılında Edirne'nin fethi kimin komutasında ve hangi savaş sonucunda gerçekleştirilmiştir?

- A) I. Murat, Sırp Sındığı Savaşı
- B) Lala Şahin Paşa, Sazlıdere Savaşı
- C) Hacı İlbey, I. Kosova Savaşı
- D) Yıldırım Bayezit, Niğbolu Savaşı
- E) Orhan Bey, Çimen Savaşı

5. Aşağıdakilerden hangisi İstanbul'un fethinin sonuçlarından biri değildir?

- A) II. Murat'ın Fatih unvanını alması
- B) Bizans İmparatorluğu'nun yıkılması
- C) Avrupa'daki Türk ilerleyişinin kolaylaşması
- D) Türk ve İslam dünyasında Fatih'in ününün artması
- E) Ortaçağ'ın sona ermesi, yeni çağın başlaması

6. I. Mutlak Monarşi  
II. Meşruti Monarşi  
III. Parlamentolu Monarşi

Egemenlik yetkilerinin bir kişi tarafından kullanıldığı devlet şekilleri yukarıdakilerden hangileridir?

- A) Yalnız I
- B) Yalnız III
- C) I ve II
- D) II ve III
- E) I, II ve III

7. Aşağıdakilerden hangisi yaptığı seyahat ile dünyanın yuvarlak olduğunu kanıtlamıştır?

- A) Macellan
- B) Kristof Kolomb
- C) Newton
- D) Cortes
- E) Vespucci

8. İtalya'da Rönesans ilk defa hangi alanda başlamıştır?

- A) Edebiyat
- B) Tiyatro
- C) Heykel
- D) Resim
- E) Müzik

# A

2012 3D 0105-A

9. Orta Çağ Avrupa'sında kilisenin dini ve dünyevi haklara sahip olduğu, düşünce alanında kilisenin koyduğu kuralların geçerli olduğu ve bunlara aykırı düşünmenin mümkün olmadığı düşünce tarzı aşağıdakilerden hangisidir?

- A) Kapitalizm
- B) Dogmatizm
- C) Sosyalizm
- D) Hümanizm
- E) Komünizm

10. Aşağıdakilerden hangisi Reformun sonuçlarından biri değildir?

- A) Protestanlığı kabul eden ülkelerde kilisenin mallarının elinden alınması
- B) Din ve devlet işlerinin birleştirilmesi
- C) Katolik kilisenin kendini düzeltmeye çalışması
- D) Okulların, kilisenin elinden alınarak halka verilmesi
- E) Papalara ve din adamlarına duyulan saygının azalması

11. Aşağıdakilerden hangisi Osmanlı Devleti'nin XVII. yüzyılda en geniş sınırlarına ulaşmasına rağmen iç isyanların ortaya çıkmasındaki başlıca nedenlerden biri değildir?

- A) Uzun süren savaşlar
- B) Rüşvet ve kayırmacının yaygınlaşması
- C) Devlet yönetiminde görülen bozukluklar
- D) Ehlîyetsiz kişilerin işbaşına getirilmesi
- E) Kapıkulu ve tımar sisteminin kaldırılması

12. XVII. yüzyılda Osmanlı Devleti ile Lehistan arasındaki ilk savaşın çıkma nedeni aşağıdakilerden hangisidir?

- A) Hotin Kalesi'nin kuşatılması
- B) Girit Adası'nın kuşatılması
- C) Bucaş Antlaşması'na uyulmaması
- D) Lehlilerin Kazakların topraklarına saldırması
- E) Lehistan'ın Boğdan işlerine karışması

13. Osmanlı Devleti ilk kez aşağıdaki antlaşmalardan hangisiyle toprak kaybına uğramıştır?

- A) Karlofça Antlaşması
- B) Kasr-ı Şirin Antlaşması
- C) Bucaş Antlaşması
- D) Hotin Antlaşması
- E) Pasarofça Antlaşması

14. I. Sırbistan, Karadağ ve Romanya'ya bağımsızlık verildi.  
II. Bulgaristan üç bölgeye ayrıldı.  
III. Kars, Ardahan ve Batum Rusya'ya bırakıldı.  
IV. Bosna ve Hersek'in yönetimi İngiltere'ye verildi.

13 Temmuz 1878'de imzalanan Berlin Antlaşması'na göre yukarıdakilerden hangileri kabul edilmiştir?

- A) I ve I
- B) II ve III
- C) I, II ve III
- D) II, III ve IV
- E) I, II, III ve IV

15. 1911 yılında Osmanlı Devleti Trablusgarp Savaşı'nı aşağıdakilerden hangisiyle yapmıştır?

- A) Avusturya
- B) İngiltere
- C) Fransa
- D) İtalya
- E) Rusya

16. I. Fransa ihtilal öncesi sınırlarına çekildi.  
II. Almanya otuzdan fazla devletten oluşan konfederasyon haline geldi.  
III. İtalya'da yedi hükümet kuruldu.  
IV. Belçika ve Norveç birleştirildi.

Yukarıdakilerden hangileri Viyana Kongresi'nde alınan en önemli kararlar arasındadır?

- A) I ve II
- B) II ve III
- C) I, II ve III
- D) II, III ve IV
- E) I, II, III ve IV

2012 3D 0105-A

17. 1863 yılında Türkiye'de ilk kez mal tanıtımı amacıyla sergi aşağıdaki illerden hangisinde açılmıştır?

- A) Edime
- B) Bilecik
- C) İzmir
- D) İstanbul
- E) Bursa

18. I. Kopernik Dünya'nın güneş çevresinde döndüğünü açıkladı.  
II. Galileo teleskopu buldu.  
III. Newton yerçekimi kanununu buldu.

**Yukarıdakilerden hangileri XVI. yüzyılda başlayan tabii bilimlerdeki gelişmelerdir?**

- A) Yalnız I
- B) Yalnız III
- C) I ve II
- D) II ve III
- E) I, II ve III

19. I. Avrupa'da güçler dengesinin bozulması  
II. Kutsal Roma-Germen İmparatorluğu'nun çözülüp parçalanması  
III. İspanya'nın güçlenmesi  
IV. İsviçre ve Hollanda'nın bağımsızlıklarını kazanması

**Yukarıdakilerden hangileri Vestfalya Anlaşması'nın sonuçlarıdır?**

- A) I ve II
- B) II ve III
- C) I, II ve III
- D) I, II ve IV
- E) I, II, III ve IV

20. Amerika Birleşik Devletleri'nin kurulmasına ilişkin aşağıdaki ifadelerden hangisi yanlıştır?

- A) George Washington baş komutanlığa getirildi.
- B) Portekizler Meksika ve Güney Amerika'da sömürge kurdular.
- C) Philadelphia'da toplanan kongre İnsan Hakları Bildirisi'ni kabul ve ilan etti.
- D) İngilizler kıyılardan içeri doğru ilerleyerek yeni topraklar kazandılar.
- E) 1775'de Philadelphia'da toplanan kongre, 13 koloninin bağımsızlığını ilan etti.



# TÜRKİYE CUMHURİYETİ İNKILÂP TARİHİ VE ATATÜRKÇÜLÜK 1

# A

2012 3D 0105-A

1. I.Dünya Savaşı'nda Kafkasya cephesi hangi antlaşma ile kapandı?

- A) Brest-Litowsk Antlaşması'yla
- B) Mondros Ateşkes Antlaşması'yla
- C) Atina Antlaşması'yla
- D) Londra Antlaşması'yla
- E) Uşi Antlaşması'yla

2. Aşağıdakilerden hangisi II.Abdülhamit'in tahttan indirilmesine yol açmıştır?

- A) Bulgaristan'ın bağımsızlığına kavuşması
- B) 31 Mart Vak'ası
- C) Avusturya-Macaristan'ın Bosna Hersek'i ele geçirmesi
- D) II.Meşrutiyet'in ilan edilmesi
- E) Trablusgarb Savaşı

3. Aşağıdakilerden hangisi Amerika Birleşik Devletleri Başkanı Wilson'un kendi adıyla yayınladığı ilkeler arasında yer almaz?

- A) Yenilen devletlerin savaş tazminatı ödememesi
- B) Osmanlı Devleti'nde Türk bölgelerine kesin egemenlik tanınması
- C) Osmanlı Devleti'ndeki azınlıklara kendilerini yönetme hakkının tanınması
- D) Yenilen devletlerin yenilenlerden toprak almaması
- E) Devletler arasında gizli antlaşmaların yapılabilmesi

4. Trablusgarp Savaşı aşağıdaki devletlerden hangileri arasında olmuştur?

- A) Osmanlı - Fransa
- B) Osmanlı - Rusya
- C) Osmanlı - Almanya
- D) Osmanlı - İtalya
- E) Osmanlı - İngiltere

5. I. Dünya Savaşı başladığında, Osmanlı Devleti öncelikle aşağıdaki kararlardan hangisini almıştır?

- A) Savaşa hiç katılmayacağını ilân etti.
- B) İttifak grubunun içinde yer aldı.
- C) Tarafsızlığını ilân etti.
- D) İtilaf grubunun içinde yer aldı.
- E) Askeri yardım yapılırsa savaşa katılacağını ilan etti.

6. İlk Osmanlı anayasası olan Kanunuesasi'ye göre yasama ve yürütme güçleri hangi kişi ya da kuruma bağlıydı?

- A) Yürütme Mebusan Meclisi'ne, yasama padişaha
- B) Yasama, Nazırlar Heyeti'ne, yürütme padişaha
- C) Yürütme Nazırlar Heyeti'ne yasama Mebusan Meclisi'ne
- D) Yasama Meclisi Ayan'a, yürütme Mebusan Meclisi'ne
- E) Yasama ve yürütme padişaha

7. Aşağıdakilerden hangisi Balkan Savaşları'nın sonuçlarından biri değildir?

- A) Osmanlı Devleti ile Almanya arasında yakınlaşma başlaması
- B) Osmanlı Devleti'nin Batı Trakya'yı, İmroz (Gökçeada) ve Bozcaada dışında Ege Adalarını kaybetmesi
- C) Amavutluk'un Osmanlı Devleti'nden ayrılarak bağımsızlığını ilan etmesi
- D) Savaşın ağır sonuçlarını bahane göstererek II. Abdülhamit'in meşrutiyet yönetimine son vermesi
- E) Tüm Makedonya'nın kaybedilmesi

İzleyen sayfaya geçiniz.

# A

2012 3D 0105-A

8. Birinci Dünya Savaşı sonunda, savaşı kaybeden Avusturya ile İtilaf Devletleri arasında imzalanan antlaşma aşağıdakilerden hangisidir?

- A) Neuilly (Nöyyi)
- B) Saint-Germain (Sen Jerman)
- C) Versailles (Versay)
- D) Brest-Litowsk
- E) Trianon (Triyanan)

9. I. Çanakkale  
II. Kanal  
III. Irak  
IV. Kafkasya

Birinci Dünya Savaşı sırasında Osmanlı Devleti yukarıda savaştığı cephelerden hangilerinde başarılı olmuştur?

- A) Yalnız I
- B) Yalnız II
- C) Yalnız III
- D) I ve IV
- E) III ve IV

10. I. Sulh ve Selamet-i Osmaniye Cemiyeti  
II. Hüriyet ve İtilaf Fırkası  
III. Redd-i İlhak  
IV. Kilikyalılar Cemiyeti  
V. Wilson Prensipleri Cemiyeti

Yukarıdakilerden hangileri Kurtuluş Savaşı'nın örgütlenmesinde, savaşın maddi ve manevi yönden desteklenmesinde öncülük etmiş milli amaca yönelik direniş cemiyetlerindendir?

- A) Yalnız I
- B) Yalnız IV
- C) II ve III
- D) III ve IV
- E) IV ve V

11. Manda yönetimi aşağıdakilerden hangisinde kesinlikle reddedilmiştir?

- A) Mudanya Görüşmeleri
- B) Sivas Kongresi
- C) Amasya Genelgesi
- D) Erzurum Kongresi
- E) Havza Genelgesi

12. Aşağıdakilerden hangisi Misakımilli kararlarından biri değildir?

- A) Kars, Ardahan ve Batum'da gerekirse halkın oyuna başvurulmalıdır.
- B) Azınlıkların hakları, komşu ülkelerdeki Müslümanlara verilen haklar kadar güvenlik altına alınacaktır.
- C) Batı Trakya'nın durumunun tespitinde halkın oyuna tekrar başvurulacaktır.
- D) Arapların oturduğu ve İtilaf Devletleri'nin işgal ettiği yerlerin geleceğini orada oturan halkın oyları belirleyecektir.
- E) Hatay'da bir halk oylamasına gidilebilir.

13. Aşağıdaki ayaklanmalardan hangisi, doğrudan İstanbul Hükümeti tarafından Büyük Millet Meclisi'ne karşı çıkarılmıştır?

- A) Afyon Ayaklanması
- B) Milli Aşiret Ayaklanması
- C) Demirci Mehmet Efe Ayaklanması
- D) Aznavur Ayaklanması
- E) Çerkez Ethem İsyanı

14. Aşağıdakilerden hangisi I. İnönü Muharebesi'nin nedenlerinden biri değildir?

- A) TBMM'nin kurduğu düzenli ordunun kazanacağı başarılarla dışarıda itibarını artırmak istemesi
- B) Yunan ordusunun Çerkez Ethem ayaklanmasından yararlanmak istemesi
- C) Yunan birliklerinin Eskişehir'i işgal etmek ve demiryolunun geçtiği yerleri kontrol altına almak istemesi
- D) Sevr Antlaşması'nın TBMM'ye kabul ettirilmek istenmesi
- E) Yunanlıların İngilizleri memnun etmek ve İtilaf Devletleri'nin desteğini almak istemesi

2012 3D 0105-A

15. Tanzimat Dönemi'nin sonlarına doğru ortaya çıkan Genç Osmanlılar'ın taraftarı olduğu, dil, din, ırk gözetmeksizin Osmanlı Devleti'nde yaşayan herkesin eşitliğini savunan fikir akımı aşağıdakilerden hangisidir?

- A) Batıcılık
- B) Sosyalizm
- C) Türkçülük
- D) İslamcılık
- E) Osmanlıcılık

16. Yunanistan'ın İzmir'i işgal etmesi kararı aşağıdakilerden hangisinde alınmıştır?

- A) Mondros Ateşkes Antlaşması
- B) Wilson Prensipleri
- C) Paris Barış Konferansı
- D) Londra Antlaşması
- E) Saint Jean de Maurienne (Sen Jon dö Moren) Antlaşması

17. I. Mustafa Kemal'in meclis başkanı seçilmesi  
II. Mecliste bir Müdafaa-i Hukuk Grubu'nun oluşturulması  
III. Misakımillî'nin olağanüstü şartlara rağmen kabul ve ilan edilmesi

Mustafa Kemal'in kendisine yakın milletvekillerinden yukarıdaki isteklerinin hangileri son Osmanlı Mebusan Meclisi'nde kabul edilmiştir?

- A) Yalnız I
- B) Yalnız III
- C) I ve II
- D) II ve III
- E) I, II ve III

18. Aşağıdakilerden hangisi Temsil Heyeti ile birlikte Mustafa Kemal'in Sivas'tan Ankara'ya gelmesinin nedenlerinden biri değildir?

- A) Ankara'nın Yunanistan ile Batı Anadolu'da yapılacak savaş alanlarına yakın olması
- B) Ankara'nın haberleşme yönünden uygun olması
- C) Meclisin Ankara'da olması
- D) Ankara'nın İstanbul ve değişik bölgelere demiryolu ulaşımıyla bağlantısının olması
- E) Ankara'nın merkezi ve güvenli olması

19. I. Arapların oturduğu ve İtilaf Devletleri'nin işgal ettiği yerlerin geleceği, o yerler halkının oyları ile belirlenecektir.  
II. Batı Trakya'nın durumunun tespitinde halkın oyuna tekrar başvurulmayacaktır.  
III. Türklerin oturduğu yerler, hiçbir sebeple ayrılık kabul etmez bir bütündür.  
IV. Halkın oyu ile anavatana katılmış olan Kars, Ardahan, Batum için gerekirse halkın oyuna başvurulmalıdır.

Misakımillî kararları ile ilgili yukarıdaki ifadelerden hangileri yanlıştır?

- A) Yalnız II
- B) Yalnız IV
- C) II ve III
- D) III ve IV
- E) I, II ve IV

20. İlk Türkiye Büyük Millet Meclisi ile ilgili aşağıdaki ifadelerden hangisi yanlıştır?

- A) Millet iradesi ile seçilen milletvekillerinden oluşmaktadır.
- B) Öncelikle vatanın kurtuluşunu ve milletin bağımsızlığını esas almıştır.
- C) Güçler ayrılığı ilkesi benimsenmiştir.
- D) Yeni Türk Devleti'nin ilk kurumlarını kurması ve temel yasalarını kabul etmesi nedeniyle kurucu meclis olarak adlandırılmıştır.
- E) Milli iradeye dayanan ilk meclistir.

## COĞRAFYA 5

# A

2012 3D 0105-A

1. Akım ve yatak özellikleri dikkate alındığında aşağıdaki akarsulardan hangisinin hidroelektrik potansiyeli daha yüksektir?

A) Çoruh Nehri  
B) Küçük Menderes  
C) Asi Nehri  
D) Gediz  
E) Meriç Nehri

2. Canlıların yaşaması için gerekli olan oksijenin atmosferde bulunma oranı yüzde kaçtır?

A) 5  
B) 21  
C) 50  
D) 78  
E) 80

3. Havadaki su buharının sıvı hale geçmesine ne ad verilir?

A) Terleme  
B) Buharlaşıma  
C) Yağış  
D) Yüzey akışı  
E) Yoğuşma

4. Aşağıdakilerden hangisi canlıların yeryüzüne dağılışını etkileyen coğrafi faktörlerden olan paleocoğrafya içinde yer alır?

A) Kıtaların kayması  
B) İnsan  
C) İklim  
D) Yer şekilleri  
E) Toprak

5. Akım ve yatak özellikleri dikkate alındığında aşağıdaki akarsulardan hangisinin hidroelektrik potansiyeli daha yüksektir?

A) Küçük Menderes  
B) Asi Nehri  
C) Fırat Nehri  
D) Meriç Nehri  
E) Gediz Nehri

6. Aşağıdaki şehirlerden hangisi bir liman şehri değildir?

A) Marsilya  
B) Amsterdam  
C) İskenderiye  
D) İstanbul  
E) Varşova

7. Nüfus artış hızının düşürülmesi için aşağıdaki önlemlerden hangisi daha etkili ve kalıcıdır?

A) Az çocuklu ailelere vergi indrimi uygulanması  
B) Aile planlaması ve doğum kontrolünün yaygınlaştırılması  
C) İç göçlerin teşvik edilmesi  
D) Çok sayıda hastane ve okul yapılması  
E) Küçük yaşta evliliklerin teşvik edilmesi

8. Nüfus artış hızının artması aşağıdaki ülkelerden hangisinde bir sorun oluşturmaz?

A) Çin  
B) Mısır  
C) Hindistan  
D) Fransa  
E) Pakistan

9. Aşağıdakilerden hangisi şehirlerde en az yürütülen faaliyet alanlarından biridir?

A) Tarım  
B) Ticaret  
C) Turizm  
D) Sanayi  
E) Kültürel

10. Tropikal yağmur ormanları aşağıdaki bölgelerin hangisinde daha geniş yer kaplar?

A) Dağların zirveleri  
B) Tundra bölgeleri  
C) Ekvatorial bölge  
D) Dağların etekleri  
E) Çöller

# A

2012 3D 0105-A

11. Ülkemizde aşağıdaki şehirlerin hangisinde petrol rafinerisi yoktur?

- A) Mersin
- B) İzmir
- C) Batman
- D) Rize
- E) İzmit

12. Aşağıdakilerden hangisi tükenmeyen doğal kaynaklardan değildir?

- A) Dalga
- B) Su
- C) Güneş
- D) Rüzgar
- E) Kömür

13. Aşağıdakilerden hangisi Asya' da, kömür yataklarının bulunduğu yerlerden biri değildir?

- A) Sibirya
- B) Hindistan
- C) Fransa
- D) Çin
- E) Rusya

14. Ekonomik faaliyetlerin temelinde yatan asıl unsur aşağıdakilerden hangisidir?

- A) Doğal afetler
- B) İnsan ihtiyaçları
- C) Nüfus artışı
- D) İklim çeşitliliği
- E) Coğrafik konum

15. Aşağıdakilerden hangisi tüketimi etkileyen beşeri faktörlerden biridir?

- A) Tanıtım ve kitle iletişim araçları
- B) Modern pazarlama teknikleri
- C) İnsan kaynakları
- D) Tarımsal faaliyetler
- E) Sanayii

16. Aşağıdaki doğal afetlerden hangisinin oluşum kökeni diğerlerinden farklıdır?

- A) Sel
- B) Taşkın
- C) Deprem
- D) Dolu
- E) Çığ

17. Aşağıdakilerden hangisi çevreyi kirletmeyen temiz ve tükenmez bir enerji kaynağıdır?

- A) Linyit
- B) Nükleer enerji
- C) Taş kömürü
- D) Rüzgar
- E) Doğal gaz

18. Aşağıdaki bölge tiplerinden hangisi Türkiye'de bulunmaz?

- A) Sanayi bölgesi
- B) Buzulların şekillendirdiği bölge
- C) Ormanlık bölge
- D) Maki bitki türü bölgesi
- E) Ovalık bölge

19. Türkiye' nin arazilerinin büyük bir kısmının dağlık ve engebeli olması aşağıdaki ekonomik faaliyetlerden hangisini olumsuz yönde etkilemektedir?

- A) Eğitim
- B) Tarım
- C) Sanayi
- D) Ulaşım
- E) Turizm

20. Aşağıdakilerden hangisi 1923-1932 döneminde tarım ve sanayi alanında yaşanmış önemli gelişmelerden biri değildir?

- A) Tarımda makineleşmenin sağlanması için teşvikler verilmesi
- B) Teşviki Sanayi Kanunu ve Gümrük Kanunu çıkarılması
- C) Ziraat Bankası vasıtasıyla çiftçilere kredi imkanı sağlaması
- D) Sümerbank'ın kurulması
- E) Aşar vergisinin kaldırılması

2012 3D 0105-A

1.  $(\exists x, x-2 \leq 3) \wedge (\forall x, 2x-3 = 7)$  önermesinin **değili** aşağıdakilerden hangisidir?

- A)  $(\forall x, x-2 > 3) \vee (\exists x, 2x-3 \neq 7)$
- B)  $(\forall x, x-2 > 3) \wedge (\exists x, 2x-3 = 7)$
- C)  $(\exists x, x-2 < 3) \wedge (\exists x, 2x-3 = 7)$
- D)  $(\exists x, x-2 \leq 3) \vee (\forall x, 2x-3 = 7)$
- E)  $(\exists x, x-2 \geq 3) \vee (\forall x, 2x-3 \neq 7)$

2. Aşağıdakilerden hangisi bir önerme değildir?

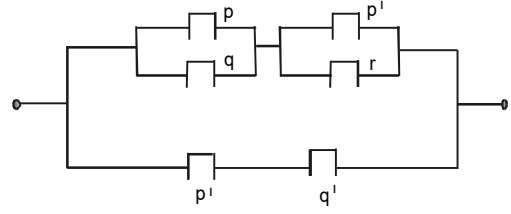
- A) Güneş bir gezegendir.
- B) İki tek sayının toplamı bir çift sayıdır.
- C) Bir yıl 365 gündür.
- D) Suyun donma sıcaklığı her yerde aynıdır.
- E) Bugün sinemaya gidelim.

3. D doğru bir önerme, Y yanlış bir önerme ve p, q herhangi iki önermedir.

Buna göre,  $[(p \Rightarrow q) \wedge Y] \Leftrightarrow D$  bileşik önermesi aşağıdakilerden hangisine denktir?

- A)  $p \Rightarrow q$
- B)  $p \vee q$
- C)  $p \wedge q$
- D) Y
- E) D

4.



Şekildeki elektrik devresine karşılık gelen bileşik önerme aşağıdakilerden hangisidir?

- A)  $[(p \vee q) \vee (p' \wedge r)] \vee (p' \wedge q')$
- B)  $[(p \vee q) \wedge (p' \vee r)] \vee (p' \wedge q')$
- C)  $[(p \vee q) \vee (p' \vee r)] \wedge (p' \vee q')$
- D)  $[(p \wedge q) \wedge (p' \wedge r)] \vee (p' \wedge q')$
- E)  $[(p \wedge q) \vee (p' \vee r)] \wedge (p' \wedge q')$

5. Verilen 6 önerme için kaç tane doğruluk değeri vardır?

- A) 12
- B) 16
- C) 24
- D) 32
- E) 64

6.  $[(0 \vee 1)' \wedge (1 \wedge 0)'] \vee a \equiv 0$  önermesi için a yerine aşağıdaki bileşik önermelerden hangisi gelemez?

- A)  $(0 \vee 1)'$
- B)  $(0 \wedge 0)'$
- C)  $1 \Rightarrow 0$
- D)  $0 \Leftrightarrow 1$
- E)  $1 \Leftrightarrow 0$

2012 3D 0105-A

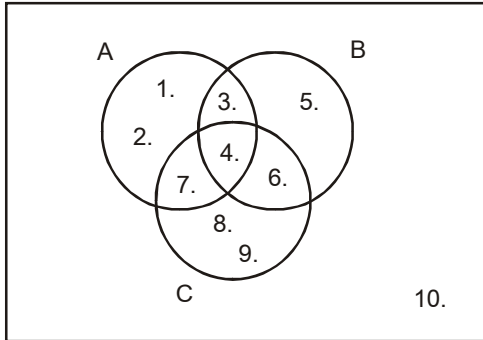
7.  $A = \{1, 2, \{3\}, \{4\}, \{5, 6\}\}$  kümesi veriliyor. Aşağıdakilerden hangisi,  $A'$  nın bir alt kümesi değildir?

- A)  $\{1\}$   
 B)  $\{2\}$   
 C)  $\{3\}$   
 D)  $\{1, 2\}$   
 E)  $\{1, 2, \{5, 6\}\}$

8.  $n(A) = 15$ ,  $n(B) = 11$  ve  $n(A \cap B) = 6$  ise  $n(A \cup B)$  kaçtır?

- A) 14  
 B) 20  
 C) 22  
 D) 24  
 E) 26

9. E



Yukarıda Venn şeması ile verilen E evrensel kümesine göre,  $A' \setminus (B \cap C)$  kümesi aşağıdakilerden hangisidir?

- A)  $\{4, 6\}$   
 B)  $\{3, 4, 6, 10\}$   
 C)  $\{5, 8, 9, 10\}$   
 D)  $\{4, 5, 6, 7, 9\}$   
 E)  $\{4, 5, 6, 8, 10\}$

10. Bir sınıfta İngilizce bilen 14 kişi, Almanca bilen 9 kişi, Fransızca bilen 3 kişi, İngilizce ve Almanca bilen 6 kişi vardır.

Fransızca bilen başka bir dil bilmediğine göre, bu sınıfta en az kaç kişi vardır?

- A) 14  
 B) 17  
 C) 20  
 D) 26  
 E) 30

11. Çift rakamların oluşturduğu kümenin liste yöntemi ile gösterimi aşağıdakilerden hangisidir?

- A)  $\{5, 6, 7\}$   
 B)  $\{8, 10, 12\}$   
 C)  $\{2, 3, 4, 5\}$   
 D)  $\{0, 2, 4, 6, 8\}$   
 E)  $\{1, 2, 4, 5, 6, 8\}$

12.  $E = \{7, 8, 9\}$  kümesinin kaç tane özalt kümesi vardır?

- A) 5  
 B) 7  
 C) 15  
 D) 24  
 E) 31

13.  $A = \{a, b, c, d\}$  kümesinin alt kümelerinin kaç tanesinde c elemanı bulunmaz?

- A) 2  
 B) 4  
 C) 6  
 D) 8  
 E) 10

2012 3D 0105-A

14.  $(3x - 2, y + x) = (4, 6)$  olduğuna göre  $(x, y)$  ikilisi aşağıdakilerden hangisidir?

A) (2, 4)  
B) (3, 4)  
C) (4, 2)  
D) (4, 5)  
E) (6, 4)

15.  $A = \{1, 2\}$  kümesi veriliyor. A dan B ye tanımlanabilen bağıntıların sayısı 256 olduğuna göre B kaç elemanlıdır?

A) 2  
B) 3  
C) 4  
D) 5  
E) 6

16.  $A = \{-2, 0, 2\}$ ,  $f: A \rightarrow B$  tanımlı örten bir fonksiyondur.

$f(x) = x^2 - 2$  kuralı ile verildiğine göre, B kümesi aşağıdakilerden hangisidir?

A)  $\{-2\}$   
B)  $\{0\}$   
C)  $\{-2, 2\}$   
D)  $\{-2, 0, 2\}$   
E)  $\{-1, 0, 2\}$

17.  $f: \mathbb{R} \setminus \{3\} \rightarrow \mathbb{R} \setminus \{5\}$ ,  $f(x) = \frac{5x+7}{x-3}$  fonksiyonu veriliyor.

Buna göre,  $f^{-1}(x)$  aşağıdakilerden hangisidir?

A)  $\frac{3x+7}{x-5}$   
B)  $\frac{3x}{5-x}$   
C)  $\frac{x-3}{2x+7}$   
D)  $\frac{5x+4}{x-7}$   
E)  $\frac{5x+7}{x+3}$

18. R de  $x \Delta y = 3xy - 3x - 3y + 4$  şeklinde tanımlanan  $\Delta$  işlemine göre birim eleman kaçtır?

A)  $-\frac{1}{2}$   
B) 1  
C)  $\frac{2}{3}$   
D)  $\frac{3}{4}$   
E)  $\frac{4}{3}$

19. R de tanımlı  $\beta = \{(x, y) \mid x^2 - x = y^2 - y\}$  bağıntısı bir denklik bağıntısı olduğuna göre, 1 in denklik sınıfı aşağıdakilerden hangisidir?

A)  $\{0, 1\}$   
B)  $\{-1, 1\}$   
C)  $\{-1, 0, 1\}$   
D)  $\{0, 1, 2\}$   
E)  $\{-2, -1, 0, 1, 2\}$

20.  $K = \{a, b\}$ ,  $L = \{5\}$  ve  $M = \{7\}$  kümeleri veriliyor.

Buna göre,  $K \times L \times M$  kümesi aşağıdakilerden hangisidir?

A)  $\{(5, 7, a)\}$   
B)  $\{(a, 5, 7)\}$   
C)  $\{(a, b, 5), (a, b, 7)\}$   
D)  $\{(a, 5, 7), (b, 5, 7)\}$   
E)  $\{(a, 5), (a, 7), (b, 5), (b, 7)\}$



## TURİZM 2

# A

2012 3D 0105-A

1. Ülkemizde klimatizm açısından önem taşıyan yerlere verilebilecek örnek aşağıdakilerden hangisidir?

- A) Damlatış ve İnsuyu mağaraları
- B) Pamukkale
- C) Kurşunlu
- D) Ortakçı
- E) Karaköy

2. Aşağıdaki başlıca kaplıcalarımızdan hangisi bulunduğu şehir ile doğru olarak eşleştirilmemiştir?

- A) Bursa-Armutlu Kaplıcaları
- B) Eskişehir-Çiftehan
- C) Denizli-Pamukkale
- D) Adana-Haruniye
- E) Ankara-Haymana

3. Ilıcaların kaplıcalardan farkı aşağıdakilerden hangisidir?

- A) Gelen kişi sayısının daha az olması
- B) İşletmelerinin devlete ait olması
- C) Üzerinin açık olması
- D) Sularında magnezyum olmaması
- E) Su sıcaklığının daha fazla olması

4. Aşağıdakilerden hangisi sağlık turizminin düzenlenmesiyle ilgili ilkelerden biri değildir?

- A) Tesislere ulaşımın kolay olması
- B) Tesislerin tanıtımının iyi yapılması
- C) Tesislerde gerekli araç gereç bulundurulması
- D) Tesislerde kaliteli hizmet verilmesi
- E) Yıllık olarak suların tıbbi analizinin yapılması

- 5. I. Gençlerin psikolojik yapıları gereği hareket, macera ve değişime açık olmaları
- II. Gençlerin aile bağları ve sorumluluklarının az olması
- III. Gençlerin konaklama yerlerinin seçiminde titiz davranmamaları

Yukarıdakilerden hangileri gençlerin turistik hareketlere katılma düzeyinin diğer yaşlardan daha yüksek olma nedenleridir?

- A) Yalnız I
- B) Yalnız II
- C) I ve II
- D) II ve III
- E) I, II ve III

6. Kızılay tarafından açılan gençlik ve sağlık kampları kaç yaş grubuna öncelik tanımaktadır?

- A) 6-7
- B) 8-9
- C) 11-17
- D) 18-20
- E) 21-24

7. Av turizmi ile ilgili olarak aşağıdaki ifadelerden hangisi yanlıştır?

- A) Doğaya zarar vermeden yapılmalıdır.
- B) Türkiye coğrafi yapısı ve bitki örtüsü bakımından av turizminin gelişmesine elverişli değildir.
- C) Bilinçli yapılmalıdır.
- D) Belli bir eğitime dayanmalıdır.
- E) Sadece olgunluğa erişmiş hayvanlar avlanmalıdır.

# A

2012 3D 0105-A

8. Av turizmine açılacak avlaklar aşağıdakilerden hangisi tarafından tespit ve ilan edilmektedir?

- A) Vali
- B) Kaymakam
- C) Çevre ve Orman Bakanlığı
- D) Muhtar
- E) Orman Müdürlükleri

9. Türkiye'de bilinçsizce avlanma sonucunda aşağıdaki hayvanlardan hangisinin soyu tükenmiştir?

- A) Anadolu Parsı
- B) Kelaynak kuşları
- C) Telli turnalar
- D) Flamingo
- E) Vaşak

10. Av turizmi düzenleyen seyahat acentalarının bu faaliyette bulunmak için almaları gereken sertifikayı aşağıdakilerden hangisi verir?

- A) Valilik
- B) Çevre ve Orman Bakanlığı
- C) İçişleri Bakanlığı
- D) Kaymakamlık
- E) Orman Müdürlükleri

11. Aşağıdakilerden hangisi Doğu Anadolu Bölgesi'nde turistlerin en çok ilgisini çeken yerler arasında yer almaz?

- A) Akdamar Adası
- B) Boğazköy Alacahöyük Milli Parkı
- C) Muradiye ve Gürlevik Çağlayanı
- D) Kommagene Krallığı dönemi ait kalıntıların bulunduğu Nemrut Dağı
- E) İshak Paşa Sarayı'nın bulunduğu Doğu Beyazıt

12. Turizm bakımından etkilenmiş bir görünüme sahip bulunan, ekonomik yapısı ve hayatı turizmin etkilerini yansıtan yere ne ad verilir?

- A) Turistik yöre
- B) Doğal gezi alanları
- C) Doğal park
- D) Turistik bölge
- E) Milli park

13. Marmara Bölgesi Balıkesir'de aşağıdakilerden hangisi bulunmaktadır?

- A) Kayak
- B) Su ürünleri
- C) Su sporları
- D) Doğal park
- E) Kuş cenneti

14. I. İklimin elverişsiz oluşu  
II. Ulaşımın yetersizliği  
III. Tarihi eserlerin azlığı

Yukarıdakilerden hangileri Doğu Anadolu Bölgesi'nin turizm yönünden gelişimini engellemektedir?

- A) Yalnız I
- B) Yalnız II
- C) I ve II
- D) II ve III
- E) I, II ve III

15. Turizmin en önemli özelliği aşağıdakilerden hangisidir?

- A) Sürekli büyüyen bir endüstri olması
- B) Seyahat imkanı sağlaması
- C) İnsanları kaynaştırması
- D) Kültür farklılıklarını ortadan kaldırması
- E) Ekonomik bir olgu olması

## 2012 3D 0105-A

16. Turizm yatırımları, yeni iş alanlarının oluşturulması ve mevcut iş alanlarının geliştirilmesi, gelişmekte olan ülkelerin en önemli sosyal ve ekonomik sorunlarından biri olan işsizliği azaltmaktadır.

**Bu ifade turizmin ekonomik etkilerinden hangisini açıklamaktadır?**

- A) Yatırım kaynağı olma etkisi
- B) Döviz etkisi
- C) Gelir kaynağı olma etkisi
- D) Refah düzeyinin yükselmesine etkisi
- E) Kişi başına düşen milli gelirin artırılmasına etkisi

17. Ülkemizin kültür turizminin önündeki en büyük engel aşağıdakilerden hangisidir?

- A) Kültür mirası bilincinin olmaması
- B) Tarihi yerlerin azlığı
- C) Kültür hazinelerine gereken değerin verilmemesi
- D) Tanıtım eksikliği
- E) Ülkemiz coğrafyasında dağlık bölgelerin fazla olması

18. Aşağıdakilerden hangisi turizmin finansal etkileri arasında yer almaz?

- A) Turizmin görünmeyen ihracat olarak ekonomiye olumlu etkisinin olması
- B) Turizm sayesinde dış satımı olanaklı olmayan varlıkların bazı hizmetlerin ihracatının yapılması ve ülkeye döviz girişi sağlanması
- C) Turizm sektörünün çok çeşitli olması nedeniyle, turizmin ulusal ekonomi içinde otelleri, eğlence hizmeti veren işletmeleri, ulaştırma işletmelerini etkilemesi
- D) Turizmin geleneksel dış satıma bağımlılığı artırması
- E) Turizmin, mevsimsel dalgalanmalar ile olumlu iç ve dış gelişmelerden yavaş etkilenmesi

19. Dünyada kültür turizmi kaç yılından beri bütün ayrıntılar düşünülerek yapılmaktadır?

- A) 1950'li yıllar
- B) 1940'lı yıllar
- C) 1930'lu yıllar
- D) 1925'li yıllar
- E) 1920'li yıllar

20. Aşağıdakilerden hangisi turizm yatırımlarının doğrudan ulusal gelir üzerinde etkide bulunmasının yanı sıra, olumlu etkide bulunduğu iş alanlarından biri değildir?

- A) Mobilya-dekorasyon
- B) Gıda
- C) İnşaat
- D) Demir-çelik
- E) Tarım

## HUKUK 2

2012 3D 0105-A

1. İlk modern ticaret kanunumuz hangi yıl yürürlüğe girmiştir?

- A) 1923
- B) 1924
- C) 1926
- D) 1927
- E) 1929

2. Ticari işlere uygulanacak hukuk kurallarında izlenecek sıra içinde aşağıdakilerden hangisi bulunmamaktadır?

- A) Hakimin bilgi ve tecrübesiyle edindiği ve uyguladığı kurallar
- B) Ticaret kanununun kuralları
- C) Ticari örf ve adet kuralları
- D) Genel hukuk kuralları
- E) Diğer kanunlarda yer alan ticari işleme ilişkin hukuk kuralları

3. Bilinen bir olay ve olgudan başka bir olay veya olgunun var olduğu sonucunun çıkarılması ve aksi kanıtlanmadıkça bu varsayımın doğru kabul edilmesi haline ne ad verilir?

- A) Gaib
- B) Tekeffül
- C) Tahmin
- D) Teselsül
- E) Karine

4. Aşağıdakilerden hangisinde en çok karşılaşılan faiz türleri bir arada verilmiştir?

- A) Artan oranlı-azalan oranlı
- B) Süreli-süresiz
- C) Basit-bileşik
- D) Vadeli-vadesiz
- E) Teminatlı-teminatsız

5. Aşağıdakilerden hangisi Türk Ticaret Kanunu'na göre ticari işletme niteliğindedir?

- A) İletişim şirketi
- B) Berber dükkânı
- C) Bakkal
- D) Kasap
- E) Marangoz atölyesi

6. Bedeni ve zihni çalışma veya emeğin bir sermaye ile birleştirilmesiyle sağlanan değerlere ne denir?

- A) Safi tutar
- B) Temettü
- C) Kazanç
- D) Gelir
- E) İrat

7. Aşağıdakilerden hangisi servet üzerinden alınan vergilerden biri değildir?

- A) Emlak vergisi
- B) Motorlu taşıtlar vergisi
- C) Taşit alım vergisi
- D) Veraset ve intikal vergisi
- E) Banka ve sigorta muameleleri vergisi

8. Gelir vergisinin konusunu oluşturan gelirler kime ait gelirlerdir?

- A) Esnaf kişi
- B) Tüzel kişi
- C) Tüccar kişi
- D) Gerçek kişi
- E) Çiftçi

9. Aşağıdaki üretim faktörüne dayanan hasıla eşleşmelerinden hangisi yanlıştır?

- A) Sermaye payı-faiz
- B) Emek payı-ücret
- C) Tabiat payı-kira
- D) Müteşebbis payı-kâr
- E) Memur payı-ikramiye

10. Aşağıdakilerden hangisi kurumlar vergisinin yükümlüsü olan kurumlardan biri değildir?

- A) Dernek ve vakıflara ait ekonomik işletmeler
- B) İş ortaklıkları
- C) İktisadi kamu kurumları
- D) Esnaf işletmesi
- E) Kooperatifler

2012 3D 0105-A

11. Vergi, sadece değer üzerinden yapılırsa bu hesaplama yöntemine ne ad verilir?

- A) Katma değer
- B) Advalorem
- C) Dolaysız vergi
- D) Spesifik
- E) Dolaylı vergi

12. Aşağıdakilerden hangisi kamu hizmetinin niteliklerinden biri değildir?

- A) Ülkenin veya halkın tamamına veya bir bölümüne yönelik olabilir.
- B) Aynı hukuki durumda olanlar hizmetlerden aynı şekilde yararlanamaz.
- C) Kamuya yönelik ve kamuya yararlı olmalıdır.
- D) Süreklilik esastır.
- E) Eşitlik esasına göre yürütülür.

13. Aşağıdakilerden hangisi verginin özellikleri arasında yer almaz?

- A) Hizmet kalitesine göre oranı belirlenir.
- B) Para ile ödenir.
- C) Belirli bir karşılık yoktur.
- D) Devletin egemenlik gücüne dayanır.
- E) Gerçek ve tüzel kişilerden alınır.

14. Vergi alacağının doğduğu takvim yılını izleyen yılın başından başlayarak kaç yıl içinde tarh ve tebliğ edilmeyen vergi zaman aşımına uğrar?

- A) 1
- B) 2
- C) 3
- D) 4
- E) 5

15. Aşağıdakilerden hangisi başarılı işçiye ek olarak ödenen ücrettir?

- A) Zamana göre
- B) Akord ücret
- C) Yüzdeye göre ücret
- D) Prim
- E) Parça başı ücret

16. İş kanununa göre, kıdem tazminatı olarak işçinin çalıştığı her tam yıl için kaç günlük brüt ücreti tutarında para ödenir?

- A) 15
- B) 20
- C) 25
- D) 30
- E) 35

17. Aşağıdakilerden hangisi, iş sözleşmesini fesih dışı nedenlerle sona erdiren sebeplerden biridir?

- A) Süreli fesih bildirimi
- B) Süresiz fesih bildirimi
- C) Doğru sürenin sona ermesi
- D) Tarafların anlaşamaması
- E) Tarafların anlaşma niyetinin olması

18. Gerçekleşmesi halinde tazminatın ödeneceği, yangın, kaza, hastalık, ölüm, kuraklık gibi olaylar sigortacılık dilinde aşağıdakilerden hangisiyle adlandırılır?

- A) Riziko
- B) Menfaat
- C) Prim
- D) Sigorta bedeli
- E) Acenta

19. Haksız eylemi işleyen veya onu istihdam eden kişiler tazminat ödemek zorunda kaldıkları zaman uğrayacakları zararı karşılamak için yapılan sigorta hangisidir?

- A) Can sigortası
- B) Mükerrer sigorta
- C) Mali sorumluluk
- D) Yangın sigortası
- E) Mal sigortası

20. Aşağıdakilerden hangisi kambiyo senedidir?

- A) Emtia senedi
- B) Poliçe
- C) Varant
- D) Taşıma senedi
- E) Taşıma işleri senedi

# DİL VE ANLATIM 8

# A

2012 3D 0105-A

1. Aşağıdakilerden hangisi Türk halk şiiri nazım biçimlerinden biri değildir?

- A) İlahi
- B) Murabba
- C) Mani
- D) Türkü
- E) Koşma

2. Bir heyecan içinde, her zamanki tabiat olaylarını, kendine göre yorumlayarak onlara tabiat dışı ve şairane nedenler yakıştırma sanatına ne ad verilir?

- A) Tenasüp
- B) Teşhis
- C) Mübalağa
- D) İntak
- E) Hüsn-i Tâil

3. Aşağıdakilerden hangisi Divan şiirinin özelliklerinden biri değildir?

- A) Gazel, kaside, mesnevi gibi nazım biçimlerinin kullanılması
- B) Arap ve Fars edebiyatının etkisinin görülmesi
- C) Dilinin ağır olması
- D) Aruz ölçüsünün kullanılması
- E) Nazım biriminin dörtlük olması

4. Bir şiirin en güzel dizesine ne ad verilir?

- A) Aliterasyon
- B) Mısra-ı berceste
- C) Makta
- D) Beyit
- E) Matla

5. Mecazlı veya açık olarak birbirleriyle anlam ilgisi olan sözcük yahut kavramların aynı beyit veya cümlede bulunmasına ne ad verilir?

- A) Teşbih
- B) Tariz
- C) Cinaz
- D) Kinaye
- E) Tenasüp

6. Tek bir sözcüğün, aynı beyitte birden fazla anlama gelecek şekilde kullanıldığı ve divan edebiyatında çok görülen sözcük sanatı aşağıdakilerden hangisidir?

- A) Tenviye
- B) Teşbih
- C) Tenasüp
- D) Tariz
- E) Teşhis

7. Aşağıdakilerden hangisi başlıca şiir türlerinden biri değildir?

- A) Didaktik
- B) Epik
- C) Pastoral
- D) Lirik
- E) Tragedya

8. Duygu , düşünce ve hayallerin ölçülü, uyaklı dizeler halinde örülmüş biçimine ne ad verilir?

- A) Nazım
- B) Nesir
- C) Menkıbe
- D) Koşma
- E) Murabba

9. Artık demir almak günü gelmişse zamandan  
Meçhule giden bir gemi kalkar bu limandan  
Hiç yolcusu yokmuş gibi sessizce alır yol;  
Sallanmaz o kalkışta ne bir mendil ne bir kol.

Yahya Kemal'in Sessiz Gemi isimli yukarıda bir parçası verilen şiiri hangi sanata dayalı alegorik bir şiirdir?

- A) Temsili istiare
- B) Kinaye
- C) Cinaz
- D) Tariz
- E) Tenasüp

10. Türk edebiyatında makalenin gelişimine bakıldığında 1860'da ilk makale kim tarafından yazılmıştır?

- A) Nefi
- B) Baki
- C) Hüseyin Cahit
- D) Şinasi
- E) Namık Kemal

# A

2012 3D 0105-A

11. "Dost dost diye nicesine sarıldım  
Benim sadık yârim kara topraktır  
Beyhude dolandım boşa yoruldum  
Benim sadık yârim kara topraktır"

**Yukarıdaki beyitle ilgili aşağıdaki ifadelerden hangisi yanlıştır?**

- A) Hecenin 11'li kalıbı kullanılmıştır.  
B) Kafiye düzeni aaab şeklindedir.  
C) Hece ölçüsüyle söylenmiştir.  
D) Dili sadedir.  
E) Kara toprak, sadık bir yar olarak tanımlanmaktadır.
12. Bir konuyu, bir olayı, bir eseri ele alıp çeşitli özelliklerini ayrıntılarıyla inceleyen ve onunla ilgili birtakım sonuçlara ulaşan ya da bir görüşü, bir iddiayı belge ve kanıtlarla destekleyerek savunan yazılara ne ad verilir?
- A) Fıkra  
B) Deneme  
C) Eleştiri  
D) Makale  
E) Mülakat
13. Agah Efendi ve Şinasi'nin 1860'da çıkardıkları ilk özel gazete hangisidir?
- A) Memleket  
B) İntibah  
C) Tercüman-Ahval  
D) Ceride-i Havadis  
E) Güneş
14. Aşağıdakilerden hangisi bilimsel yazılar içerisinde yer almaz?
- A) Tiyatro metinleri  
B) Bilimsel makaleler  
C) Konferans raporları  
D) Toplantı özetleri  
E) Değerlendirme yazıları
15. Makaleyle ilgili aşağıdaki ifadelerden hangisi yanlıştır?
- A) Gazetede ilk sayfa ve birinci sütunda yer alan ve günlük olaylar, ülke sorunları hakkında görüşleri yansıtan yazılara başmakale adı verilir.  
B) Sonuç bölümünde, makalede söylenenler bir yargıya bağlanır.  
C) Üslup yönünden üçüncü tekil anlatım tercih edilir.  
D) Makalede temel öge duygudur.  
E) Bilimsel bir anlatım ağır basar.

16. Yazılışı aynı fakat anlamı bambaşka olan sözcüklerle hangi sanat yapılır?

- A) Uyak  
B) Mübalağa  
C) Cinas  
D) Aliterasyon  
E) Mecaz

17. Anadolu Türk edebiyatının kurucusu, tekke, divan ve halk edebiyatlarının tümüne esin kaynağı olarak görülen şair aşağıdakilerden hangisidir?

- A) Yahya Kemal  
B) Yunus Emre  
C) İlhan Berk  
D) Bedri Rahmi  
E) Mehmet Akif

18. Milli ölçümüz olarak nitelendirilen ve halk edebiyatında sıkça kullanılan ölçü aşağıdakilerden hangisidir?

- A) Serbest ölçü  
B) Halk ölçüsü  
C) Aruz ölçüsü  
D) Hece ölçüsü  
E) Koşma ölçüsü

19. Aşağıdakilerden hangisi kafiye çeşitlerinden biri değildir?

- A) Tam kafiye  
B) Yarım kafiye  
C) Heceli kafiye  
D) Zengin kafiye  
E) Cinaslı kafiye

20. İnsanlarda bulunan özellikleri hayvanlara, bitkilere veya cansız varlıklara verme sanatına ne ad verilir?

- A) Hüsn-i Tâil  
B) Mübalağa  
C) Teşhis  
D) Tevriye  
E) Tenasüp

# TÜRK EDEBİYATI 4

# A

2012 3D 0105-A

1. Aşağıdakilerden hangisi ilk islami eserlerimizden biri değildir?

- A) Cemşid ü Hurşid
- B) Kutadgu Bilig
- C) Atabetü'l – Hakâyık
- D) Divân-ü Lûgati't-Türk
- E) Divân-ı Hikmet

2. "Manas Destanı" kime aittir?

- A) Kırgızlara
- B) Göktürklerle
- C) Uygurlara
- D) Sümerlere
- E) Sakalara

3. Kültürel tarihimizi aydınlatacak düşüncelerin, toplumun değer yargılarının ele alınıp işlendiği "Siyasetnâme" türünün ilk örneği sayılan "Kutadgu Bilig"ın yazarı kimdir?

- A) Hoca Ahmet Yesevî
- B) Edip Ahmet Yükneki
- C) Yunus Emre
- D) Yusuf Has Hacı
- E) Hacı Bektaş Velî

4. Şunlar ki çoktur malları  
Gör nice oldu halleri  
Son ucu bir gömlek imiş  
Anın da yoktur yenleri

Yunus Emre'nin yukarıdaki dördlüğü ile ilgili olarak aşağıdakilerden hangisi söylenemez?

- A) Beşeri aşkın işlendiği
- B) Hece ölçüsüyle yazıldığı
- C) Dört dizeden oluştuğu
- D) İlahî örneği olduğu
- E) Ölümün en büyük ibret olduğu ve Tanrı düşüncesinin dile getirildiği

5. Aşağıdakilerden hangisi, Tanrı aşkını, tasavvuf düşüncesini işleyen türlerden biridir?

- A) Tegazzül
- B) Ağıt
- C) Hikmet
- D) Öğüt
- E) Nesîb

6. Aşağıdakilerden hangisi, Nasreddin Hoca, Bektaşî, İncili Çavuş gibi meşhur fıkraların ortak özelliklerinden biri değildir?

- A) Mizahi olmaları
- B) Manzum olmaları
- C) Güldürürken düşündürmeleri
- D) İnce kıvrak zekânın ürünü olmaları
- E) Hazırcevaplığı ve nükte ustalığını yansıtmaları

7. Aşağıdakilerden hangisi Türk edebiyatında romanın yerini tutan uzun kahramanlık hikâyelerinden biridir?

- A) Vakayiname
- B) Seyahatname
- C) Battalname
- D) Tazarruname
- E) Şikayetname

8. Âşık Paşa'nın didaktik mesnevisi, aşağıdakilerden hangisidir?

- A) Risaletü'n-Nushiyye
- B) Hüsn ü Aşk
- C) Garibnâme
- D) Hayriyye
- E) Lütfiyye

9. Gazel nazım şeklinde şairin takma adının geçtiği son beyite ne ad verilir?

- A) Matla beyit
- B) Mahlas
- C) Yek-âvâz gazel
- D) Makta beyit
- E) Beytül-gazel

10. Bir devlet büyüğünün ölümünden duyulan derin üzüntüyü dile getiren şiirlere, Divan edebiyatında ne ad verilir?

- A) Medhiye
- B) Hicviye
- C) Mersiye
- D) Girizgâh
- E) Fahriye

# A



## 2012 3D 0105-A

11. Halk şiirinin yakın dönemde yetişen, en güçlü, en duyarlı seslerindendir. Çocukken geçirdiği çiçek hastalığı yüzünden gözlerini yitirmiştir.

**Yukarıda sözü edilen saz şairi aşağıdakilerden hangisidir?**

- A) Aşık Veysel
- B) Dadaloğlu
- C) Öksüz Dede
- D) Karacaoğlu
- E) Koroğlu

12. İlk dizesi yedi heceden daha az olan manilere ne ad verilir?

- A) Eksik mâni
- B) Kesik mani
- C) Mâni
- D) Ayaklı mâni
- E) Düz mâni

13. Divan-ı Hikmet'in yazarı aşağıdakilerden hangisidir?

- A) Kaşgarlı Mahmut
- B) Yusuf Has Hacib
- C) Yükneklî Edip Ahmet
- D) Yunus Emre
- E) Ahmet Yesevi

14. Aladır gözlerin siyahtır kaşın  
Aradım cihanı bulunmaz eşin  
Yaylanın karından beyazdır düşün  
Uzanıp üstüne ölesim geldi

**Yukarıdaki dörtlülle ilgili aşağıdakilerden hangisi yanlıştır?**

- A) Halk şiirinden alınmıştır.
- B) Nazım birimi dörtlüktür.
- C) 11'li hece ölçüsü vardır.
- D) Aruz ölçüsü kullanılmıştır.
- E) 6+5 duraklıdır.

15. Aşağıdakilerden hangisi Tasavvuf şiirinin konusu olabilir?

- A) Sevgili
- B) Özlem
- C) Savaş
- D) Güzellik
- E) İlahî aşk

16. XVII. yüzyılda yazdığı kaside hicivleriyle öne çıkan şair aşağıdakilerden hangisidir?

- A) Veysî
- B) Nabî
- C) Ruhî
- D) Nefî
- E) Nedim

17. Aşağıdakilerden hangisi Tasavvuf şairi değildir?

- A) Yunus Emre
- B) Karacaoğlu
- C) Mevlâna
- D) Ahmet Yesevî
- E) Hacı Bektaş Veli

18. Aşağıdakilerden hangisi Tasavvufîla ilgili değildir?

- A) Münacaat
- B) Sathîye
- C) Nefes
- D) İlâhî
- E) Gazel

19. Öğretmek amacıyla ele alınan edebî eserlere ne ad verilir?

- A) Dramatik
- B) Didaktik
- C) Lirik
- D) Satirik
- E) Pastoral

20. Aşağıdakilerden hangisi edebiyatımızdaki ilk öğretici eser sayılabilir?

- A) Atabet'ül Hakâyık
- B) Divan-ı Lügat'it Türk
- C) Danişmendnâme
- D) Divan-ı Hikmet
- E) Kutadgu Bilig

# TÜRK EDEBİYATI 6

# A

2012 3D 0105-A

1. Sembolistlerden etkilenip resim ve müziği şiirinde birleştirmeye çalışan Servet-i Fünûn şairi, aşağıdakilerden hangisidir?

A) Hüseyin Suat  
B) Ali Ekrem Bolayır  
C) Süleyman Nazif  
D) Tevfik Fikret  
E) Cenap Şehabettin

2. Aşağıdakilerden hangisi sembolizmin özelliklerinden biri değildir?

A) "Sanat toplum içindir." anlayışının savunulması  
B) İlk olarak Fransa'da başlaması  
C) Sözcüklerdeki ahenk ve müziğin şiirle birleşmesi  
D) Doğa değil, onun insan ruhunda bıraktığı izlenimlerin anlatılması  
E) 19. yüzyılın ikinci yarısından sonra parnasizme tepki olarak ortaya çıkması

3. Parnasizmin en önemli özelliği aşağıdakilerden hangisidir?

A) Üç birlik kuralına uyulması  
B) Noktalama işaretlerinin atılması  
C) Duygudan çok tasvire, düşünceye, biçim ve söyleyiş güzelliğine önem verilmesi  
D) Sanat için sanat anlayışına karşı çıkılması  
E) Kişisel duyguların aktarımına karşı çıkılması

4. "Siyah İnciler" adlı mensur şiir kitabı, aşağıdaki yazarlardan hangisine aittir?

A) Halit Ziya Uşaklıgil  
B) Ahmet Samim  
C) Tahsin Nahit  
D) Mehmet Rauf  
E) Emin Bülent

5. Aşağıdakilerden hangisi Mehmet Raufun eserlerinden biri değildir?

A) Cidâl  
B) Bir Aşkın Tarihi  
C) Üç Hikâye  
D) Son Emel  
E) Mai ve Siyah

6. Aşağıdaki yazar ve eseri eşleştirmelerinden hangisi yanlıştır?

A) Mehmet Rauf-Sansür  
B) Hüseyin Cahit Yalçın-Kırk Yıl  
C) Tevfik Fikret-Ferda  
D) Halit Ziya Uşaklıgil-Bir Ölünün Defteri  
E) Ali Ekrem Bolayır-Ordunun Defteri

7. Aşağıdakilerden hangisi Servet-i Fünûn edebiyatının özelliklerinden biri değildir?

A) Şiirde sembolizm ve parnasizmin kullanılması  
B) Kulağa göre kafiye anlayışının benimsenmesi  
C) Nazım birimi olarak mısra kullanılması  
D) Aruz ölçüsü kullanılması  
E) Toplumsal temalara değinilmesi

8. Aşağıdakilerden hangisi, Reşat Nuri Güntekin'in eserlerinden biri değildir?

A) Yeşil Gece  
B) Yaprak Dökümü  
C) Dudaktan Kalbe  
D) Vurun Kahpeye  
E) Acımak

9. "Kösem Sultan, Hicranlar ve Fırar" adlı tiyatro eserleri aşağıdaki yazarlardan hangisine aittir?

A) Mehmet Rauf  
B) Tahsin Nahit  
C) Süleyman Nazif  
D) Namık Kemal  
E) Halit Ziya Uşaklıgil

10. "Elhan-ı Şita" adlı şiirinde heceleri müzik düzeyinde kullanan şair, aşağıdakilerden hangisidir?

A) Cenap Şehabettin  
B) Tevfik Fikret  
C) Tahsin Nihat  
D) Ali Canip  
E) Hüseyin Suat

# A

2012 3D 0105-A

11. Türk edebiyatında "Han Duvarları" ve "Çoban Çeşmesi" şiirleriyle tanınan; sade dil ve hece ölçüsünü ustalıkla kullanan; fıkra, manzum oyun, roman türünde de eser veren sanatçı kimdir?

- A) Mehmet Emin Yurdakul
- B) Yahya Kemal Beyatlı
- C) Faruk Nafiz Çamlıbel
- D) Ahmet Mithat Efendi
- E) Ahmet Hikmet Müftüoğlu

12. Klasik olay hikâyesi tarzında yazan, Ömer Seyfettin'in de örnek aldığı Fransız yazar, aşağıdakilerden hangisidir?

- A) Moliere
- B) La Fontaine
- C) Voltaire
- D) Guy de Maupassant
- E) Montaigne

13. Aşağıdaki sanatçılardan hangisi, hem Fecr-i Âtî, hem de Milli Edebiyat Dönemi içinde yer almıştır?

- A) Mehmet Emin Yurdakul
- B) Ahmet Haşim
- C) Süleyman Nazif
- D) Celâl Sahir
- E) Yahya Kemal Beyatlı

14. Aşağıdakilerden hangisi, Milli Edebiyat akımının temsilcilerinden biri değildir?

- A) Halit Fahri Ozansoy
- B) Ömer Seyfettin
- C) Ali Canip Yöntem
- D) Ziya Gökalp
- E) Mehmet Emin Yurdakul

15. Aşağıdakilerden hangisi Ahmet Haşim'in eserlerinden biri değildir?

- A) Göl Saatleri
- B) Piyale
- C) Bize Göre
- D) Frankfurt Seyahatnamesi
- E) Altın Işık

16. Aşağıdakilerden hangisi "saf şiir" anlayışının özelliklerinden biri değildir?

- A) Söze önem verilmesi
- B) Anlamın kapalı olması
- C) Nazmın nesre yaklaşması
- D) Ritm ve ahenge önem verilmesi
- E) Sosyal temalardan çok bireysel duyarlılığın tercih edilmesi

17. Aşağıdakilerden hangisi, Halide Edip Adıvar'ın eserlerinden biri değildir?

- A) Ateşten Gömlek
- B) Kalp Ağrısı
- C) Türkün Ateşle İmtihanı
- D) Yaban
- E) Sinekli Bakkal

18. "Çalıkuşu" adlı roman aşağıdaki yazarlardan hangisine aittir?

- A) Yakup Kadri Karaosmanoğlu
- B) Halit Ziya Uşaklıgil
- C) Reşat Nuri Güntekin
- D) Halide Edip Adıvar
- E) Mehmet Rauf

19. Aşağıdakilerden hangisi, Faruk Nafiz Çamlıbel'in eserlerinden biri değildir?

- A) Dinle Neyden
- B) Kızıl Elma
- C) Yıldız Yağmuru
- D) Şarkın Sultanları
- E) Han Duvarları

20. "Kiralık Konak, Nur Baba, Sodem ve Gomore, Hüküm Gecesi" adlı romanlar aşağıdaki yazarlardan hangisine aittir?

- A) Yakup Kadri Karaosmanoğlu
- B) Halide Edip Adıvar
- C) Reşat Nuri Güntekin
- D) Ahmet Rauf
- E) Halit Ziya Uşaklıgil

## FİZİK 5

# A

2012 3D 0105-A

1. 80 metre yükseklikten serbest düşmeye bırakılan bir cisim yere kaç saniye sonra çarpar? (hava sürtünmesi önemsenmeyecek, ve  $g=10\text{m/s}^2$  alınacaktır.)

A) 2  
B) 3  
C) 4  
D) 5  
E) 6

2. I. Yörüngeler Kanunu  
II. Alanlar Kanunu  
III. Periyotlar kanunu

Yukarıdakilerden hangileri Kepler Kanunlarındandır?

A) Yalnız I  
B) Yalnız III  
C) I ve II  
D) II ve III  
E) I, II ve III

3. Bir cismin iki nokta arasında eş zamanlı (periyodik olarak) ve değişen ivmeli olarak yaptığı titreşim (devir) hareketine ne ad verilir?

A) Çizgisel hız  
B) Serbest düşme hareketi  
C) Açısal hız  
D) Kompleks harmonik hareket  
E) Basit harmonik hareket

4. 4 metre uzunluğundaki bir ipin ucuna bağlı 0,5 kg'lık bir cisim yatay düzlemde 8 m/s'lik hızla döndürüldüğünde ipteki gerilme kuvveti kaç N olur?

A) 2  
B) 4  
C) 6  
D) 8  
E) 10

5. Herhangi bir anda cismin bulunduğu noktanın denge konumuna (orjine) olan uzaklığına ne ad verilir?

A) Genlik  
B) Uzanım  
C) Periyot  
D) Frekans  
E) Çarpıntı

6. 36 km/s hızla hareket eden 1.800 kg kütleli bir kamyonla eşit momentuma sahip olabilmesi için 1.200 kg kütleli bir otomobilin hızı kaç m/s olmalıdır?

A) 10  
B) 15  
C) 20  
D) 25  
E) 30

7. Bir roketin toplam kütlesi 3.000 kg'dır. Roketten 400 m/s hızla 600 kg'lık yakıt atıldığında roket kaç m/s'lik hız kazanır?

A) 500  
B) 1.000  
C) 1.500  
D) 2.000  
E) 2.500

8. Elektrik yüklerinin birbirlerini ittiğini veya çektiğini deneylerle ispatlayan bilim adamı aşağıdakilerden hangisidir?

A) Albers  
B) Walter  
C) Burghardt  
D) Bilton  
E) Coulomb

9. Aşağıdakilerden hangisi elektroskop cihazının parçalarından biri değildir?

A) Lamel  
B) Gösterge  
C) Yapraklar  
D) Metal çubuk  
E) İletken küre

10. I. Proton  
II. Nötron  
III. Bariton

Yukarıdakilerden hangileri atomu oluşturan taneciklerden biri değildir?

A) Yalnız I  
B) Yalnız II  
C) Yalnız III  
D) I ve II  
E) II ve III

# A

2012 3D 0105-A

11. Bir elektrik devresinden 2 dakikada 2.400 C'luk yük geçtiğine göre devrenin akım şiddeti kaç amperdir?

A) 5  
B) 10  
C) 15  
D) 20  
E) 25

12. I. Metal çubuk  
II. Cam  
III. Ebonit  
IV. Plâstik

Yukarıdaki maddelerden hangilerinde elektrik yükleri kolayca yer değiştirmektedir?

A) Yalnız I  
B) I ve II  
C) II ve III  
D) II ve IV  
E) I, III ve IV

13. Aşağıdaki maddelerden hangisi diğerlerine göre daha az iletkenliğe sahiptir?

A) Bakır  
B) Gümüş  
C) Demir  
D) Altın  
E) Alüminyum

14. I. Piller  
II. Akümülatörler  
III. Dinamolar

Yukarıdakilerden hangileri günümüzde kullanılan en yaygın doğru akım kaynaklarındandır?

A) Yalnız I  
B) Yalnız II  
C) I ve II  
D) II ve III  
E) I, II ve III

15. I. Hidroelektrik santralleri  
II. Termik santraller  
III. Nükleer santraller

Yukarıdaki santrallerden hangileri baraj göllerinde toplanan suyun potansiyel ve kinetik enerjisinden elektrik enerjisi üretir?

A) Yalnız I  
B) Yalnız II  
C) I ve II  
D) II ve III  
E) I, II ve III

16. Aşağıdaki santrallerden hangisinin yakıt türü doğal gazdır?

A) Ambarlı  
B) Afşin  
C) Tunçbilek  
D) Aliağa  
E) Kangal

17. Bir transformatörün primeri 440, skonderi 50 sarılımdır. Primere 220 V'luk alternatif gerilim uygulanırsa sekonderdeki gerilim kaç volt olur?

A) 10  
B) 15  
C) 20  
D) 25  
E) 30

18. Bir elektrik devresinden geçen akım şiddetini değiştirmeye yarayan araç aşağıdakilerden hangisidir?

A) Motor  
B) Anahtar  
C) Ampermetre  
D) Reosta  
E) Ampul

19. Kütle numaraları küçük iki atom çekirdeğinin uygun şartlarda birleşerek daha büyük atom çekirdeği oluşturmaya ne ad verilir?

A) Fizyonomi  
B) Fizyon  
C) Düffizyon  
D) Elektrolit  
E) Paratoner

20. Bir iletkenin boyu ilk boyunun 4 katına çıkartılırsa, direnci ilk direncinin kaç katı olur?

A) 2  
B) 3  
C) 4  
D) 5  
E) 6

# EKONOMİ 1

# A

2012 3D 0105-A

1. Aşağıdakilerden hangisi dolaysız tüketimdir?

- A) Termik santralde elektrik üretmek üzere kömür kullanılması
- B) Hidro elektrik santralde su kullanılması
- C) Ekmek üretimi için un kullanılması
- D) Sanayide tekstil ürünleri üretmek üzere pamuk ve yünün kullanılması
- E) Bir otobüste seyahat edilmesi

2. Aşağıdakilerden hangisi Ekonomi biliminin temelini oluşturur?

- A) Değer
- B) Büyüme
- C) Enflasyon
- D) Kıtlik
- E) Para

3. Ekonomi biliminde doğruluğu tartışmasız kabul edilen bazı temel varsayımlardan hareket ederek bunların tek olaylara uygulanması esasına dayanan yöneme ne ad verilir?

- A) Cebirsel yöntem
- B) Tümdengelim yöntemi
- C) Tümevarım yöntemi
- D) Mantıksal akıl yürütme yöntemi
- E) Karma yöntem

4. Ekonomide çalışmak isteyen herkese iş alanı sağlanması, var olan kaynakların tam ve etkili şekilde kullanılması ekonomi politikasının aşağıdaki hedeflerinden hangisinin içinde yer alır?

- A) Tam istihdamı sağlamak
- B) Ekonomik kalkınmayı sağlamak
- C) Gelir dağılımını dengelemek
- D) Tekel piyasalarını arttırmak
- E) Dış ödemeler dengesini sağlamak

5. Aşağıdakilerden hangisi, yönlendirici vasıtalarla bir örnek değildir?

- A) Yatırımları destekleme önlemleri
- B) Tarım ürünleri fiyatını destekleme önlemleri
- C) İhracatı destekleme önlemleri
- D) Nüfus planlaması
- E) Kamulaştırma

6. İlk İktisat Kongresi hangi yıl yapılmıştır?

- A) 1919
- B) 1920
- C) 1923
- D) 1925
- E) 1927

7. Aşağıdakilerden hangisi ihtiyaç yasalarından biri değildir?

- A) İhtiyaçların miktarı sınırsızdır.
- B) İhtiyaçlar yaşla ilgilidir.
- C) İhtiyaçlar birbirine rakiptir.
- D) Bazı ihtiyaçların kapasiteleri sınırlıdır.
- E) İhtiyaçlar değişmektedir.

8. Bir vasıtanın mal olabilmesi için gerekli olan özellik aşağıdakilerden hangisidir?

- A) Herhangi bir ödeme yapılmadan sahip olunması
- B) Üretiminin mümkün olması ve sağlanması için çaba harcanması
- C) Zaman içinde doğada tükenmesi
- D) İnsanların elde etmek için çaba göstermeleri gerekmemesi
- E) Sadece ihtiyacı karşılamaya yeterli olması

9. İnsanların ihtiyaçlarını doğrudan doğruya karşılamaya uygun olan, üretilen ve doğada belirli miktarda bulunan vasıtalar ne ad verilir?

- A) İhtiyaç
- B) Emek
- C) Mal
- D) Değer
- E) Sermaye

10. Aşağıdakilerden hangisi ekonomik ihtiyaç değildir?

- A) Televizyon ihtiyacı
- B) Konut ihtiyacı
- C) Seyahat etmek
- D) Hava ihtiyacı
- E) Elbise satın almak

# A

2012 3D 0105-A

11. Aşağıdakilerden hangisi zorunlu ihtiyaçlara cevap veren mallardandır?

- A) Ekmek
- B) Elbise
- C) Konut
- D) Televizyon
- E) Kitap

12. İhtiyaçlar arasında rekabet ve ikame imkanları tüketiciler için aşağıdaki faydalardan hangisini sağlar?

- A) Kalkınma hızını yükseltir.
- B) Gelir dağılımını iyileştirir.
- C) Bireylerin gelirlerini yükseltir.
- D) Sağlıklı beslenme imkanı yaratır.
- E) Aynı ihtiyaca cevap veren malların fiyatları arasında orantılı bir denge sağlar.

13. Karşılanması ekonomik bir faaliyetin yapılmasını gerektiren ihtiyaçlara ne ad verilir?

- A) Kültürel ihtiyaçlar
- B) Ekonomik ihtiyaçlar
- C) Zorunlu ihtiyaçlar
- D) Lüks ihtiyaçlar
- E) Ekonomik olmayan ihtiyaçlar

14. Aşağıdakilerden hangisi doğanın üretim üzerine gösterdiği etkilerden biri değildir?

- A) Toprak ve toprakaltı zenginlikleri vasıtasıyla, tarım ve sanayi üretimini belirler.
- B) Üretim faaliyetlerinin şeklini, bir bölgede hangi tarımsal ürünlerin üretilip üretilmeyeceğini belirler.
- C) Yeryüzü şekilleri ve coğrafik yapı özellikleri aracılığıyla ekonomik faaliyetleri etkiler.
- D) Üretim sonucu olmayan değer artış olayları meydana getirir.
- E) İklim etkeniyle insanların isteğini olumlu veya olumsuz şekilde etkiler.

15. Aşağıdaki GAP projesinin hangisi tamamen sulama amaçlıdır?

- A) Batman Projesi
- B) Adıyaman-Kahta Projesi
- C) Süruç-Bazıklı Projesi
- D) Sınır Fırat Projesi
- E) Ilisu Projesi

16. Aşağıdakilerden hangisi kuruluş yeri seçiminde göz önünde bulundurulacak faktörlerden biri değildir?

- A) Kullanılan üretim teknolojisi
- B) Enerji kaynaklarına yakınlık
- C) İklim
- D) Su kaynaklarına yakınlık
- E) Hammadde kaynaklarına yakınlık

17. Aşağıdakilerden hangisi, enerji kaynaklarının bir üretim faktörü olarak öneminin artmasının nedenlerinden biri değildir?

- A) Üretim miktarının artışı
- B) Toplumun refah düzeyinin düşmesi
- C) Hızlı nüfus artışı
- D) Tarım sektöründeki modernleşme
- E) Sanayileşmenin hızlanması

18. Aşağıdakilerden hangisi, Türkiye'deki termik santrallerden biridir?

- A) Kesikköprü
- B) Keban
- C) Tunçbilek
- D) Hazar
- E) Hirfanlı

19. Üretimle ilgili aşağıdaki ifadelerden hangisi yanlıştır?

- A) Üretim madde meydana getirmektir.
- B) Üretim değer meydana getirmektir.
- C) Üretim kıt olan herhangi bir malın miktarını artırmaktır.
- D) Enerji, doğa üretiminin en önemli faktörlerinden biri değildir.
- E) Üretim ekonomik malların miktarını veya faydasını artırmaktır.

20. Aşağıdaki barajlardan hangisi Aşağı Fırat Projesi içinde yer alır?

- A) Cizre Barajı ve Hidroelektrik Santrali
- B) Karakamış Barajı
- C) Kralkızı ve Dicle Baraj ve Hidroelektrik Santrali
- D) Birecik Fındıklı Barajı
- E) Karakaya Barajı ve Hidroelektrik Santrali

2012 3D 0105-A

1. Aşağıdaki hayvanlardan hangisinin solunum organında temizlenen kan kalbe uğramadan vücuda dağılır?

- A) Balık
- B) Kuş
- C) Memeli
- D) Sürüngen
- E) Kurbağa

2. İnsan dolaşım sistemi aşağıdakilerden hangisini gerçekleştirir?

- A) Besin taşıma
- B) Oksijen taşıma
- C) Hormon taşıma
- D) Sindirim enzimi taşıma
- E) Atık madde taşıma

3. I. Solungaç  
II. Deri  
III. Akciğer

Yukarıdaki oksijen alma, solunum şekillerini hayatının değişik evrelerinde yapabilen canlı aşağıdakilerden hangisidir?

- A) Balık
- B) Solucan
- C) Kurbağa
- D) Kaplumbağa
- E) Timsah

4. İnsanın soluk alması sırasında aşağıdaki olaylardan hangisi gerçekleşir?

- A) Diyafram kasının kubbeleşmesi
- B) Karbondioksitin dışarı verilmesi
- C) Akciğer iç basıncının artması
- D) Göğüs kaslarının gevşemesi
- E) Göğüs boşluğunun genişlemesi

5. Aşağıdakilerden hangisi solunum sistemi sağlığı için yapılması gerekenlerden biri değildir?

- A) Yaşanılan ortamın havası temiz olmalı
- B) Düzenli spor yapmayı alışkanlık haline getirmeli
- C) Dengeli beslenmeye önem verilmeli
- D) Solunum yolu hastalıklarına karşı gelişigüzel ilaç kullanılmalı
- E) Sigara içilmemeli, içilen ortamda bulunulmamalı

6. Hayvanlar aleminde bulunan aşağıdaki yapılardan hangisi boşaltım organı değildir?

- A) Alev hücreleri
- B) Nefridyum
- C) Trake boruları
- D) Malpighi tüpü
- E) Böbrek

7. İnsan vücudu içerisindeki metabolik olaylar sonucu meydana gelen zehirli maddeleri ilk etapta etkisiz hale getiren ve vücuttan uzaklaştıran organ aşağıdakilerden hangisidir?

- A) Karaciğer
- B) Böbrek
- C) Mide
- D) Kalp
- E) Safra kesesi

8. İskeleti kemikten yapılmış ergin bir omurgalının böbreğinde aşağıdakilerden hangisi bulunmaz?

- A) Bowman kapsülü
- B) Glomerulus
- C) Henle kulbu
- D) Havuzcuk
- E) Kırpikli huni

9. Amonyanın daha çok üre ve ürik aside dönüştürülerek vücuttan uzaklaştırılması aşağıdakilerden hangisini önlemeye yönelik bir adaptasyondur?

- A) Kan kaybını
- B) Tuz kaybını
- C) Su kaybını
- D) Azot kaybını
- E) Besin kaybını

10. Aşağıdaki canlılardan hangisi en gelişmiş metanefroz böbreğe sahiptir?

- A) Balık embriyosu
- B) Ergin memeli
- C) Ergin kurbağa
- D) Kurbağa embriyosu
- E) Ergin balık



2012 3D 0105-A

11. Hücre solunumu sonucu meydana gelen karbondioksit doku kılcallarına aşağıdakilerden hangisiyle geçer?

- A) Osmoz
- B) Anhidraz
- C) Bronş
- D) Difüzyon
- E) Stoma

12. Aşağıdakilerden hangisi gırtlak kapağı yerine kullanılan kavramdır?

- A) Plöra
- B) Orofarinks
- C) Nazofarinks
- D) Sinüs
- E) Epiglottis

13. I. Stoma sayısı  
II. Yaprak yüzeyi genişliği  
III. Yapraklardaki damar sayısı

Bitkilerde gaz alış-verişi, yukarıdaki faktörlerden hangilerine bağlıdır?

- A) Yalnız I
- B) I ve II
- C) I ve III
- D) II ve III
- E) I, II ve III

14. Aşağıdakilerden hangisi solunum sistemlerindeki ortak özelliklerinden biridir?

- A) Canlının dış ve iç çevresi arasında gaz değişimine aracılık etmesi
- B) Enerji üretilmesi
- C) Karbondioksit taşınması
- D) Dolaşım sıvısından azotlu atıkların uzaklaştırılması
- E) Oksijen taşınması

15. İnsanda soluk alma sırasında aşağıdaki değişimlerden hangisi gerçekleşir?

- A) Kaburga kaslarının gevşemesi
- B) Diyafram kasının kubbeleşmesi
- C) Göğüs boşluğu hacminin azalması
- D) Akciğer iç basıncının azalması
- E) Göğüs kafesinin daralması

16. Kan basıncına bağlı olarak glomerulus içindeki kanın plazma kısmının Bowman kapsülü boşluğuna geçmesiyle oluşan olaya ne ad verilir?

- A) Geri emilim
- B) Boşaltım
- C) Toplama
- D) Nefrit
- E) Süzülme

17. Az su tüketimi sonucu idrarda fosfat ve oksalat gibi maddelerin yoğunlaşarak oluşturduğu yapıya ne ad verilir?

- A) Tümör
- B) Reflü
- C) Böbrek taşı
- D) Sistik asit
- E) Malpighi cisimciği

18. Organizmaların ve boşaltım sistemlerinin eşleştirmelerinde aşağıdakilerden hangisi yanlıştır?

- A) Sürüngen-Kontraktıl koful
- B) Planarya-Alev hücreleri
- C) Yer solucanı-Nefridyum
- D) Çekirge-Malpighi kanalları
- E) Memeli-Nefron

19. Aşağıdaki canlıların hangisinde ürik asit, boşaltım ürünüdür?

- A) Sincapta
- B) Kuşta
- C) Balıkta
- D) Tavşanda
- E) Kurbağada

20. Aşağıdakilerden hangisi nefronun bölümlerinden biri değildir?

- A) Üreter
- B) Malpighi cisimciği
- C) Bowman kapsülü
- D) Henle kulbu
- E) Glomerulus

## ÇAĞDAŞ TÜRK VE DÜNYA TARİHİ 2

# A

2012 3D 0105-A

1. Vietnam Savaşı hangi yıl başlamıştır?

- A) 1960
- B) 1962
- C) 1965
- D) 1969
- E) 1972

2. Aşağıdakilerden hangisi, 1974 yılında Helsinki'de yapılan Avrupa Güvenlik ve İşbirliği Konferansı'na (AGİK) katılmamıştır?

- A) Kanada
- B) ABD
- C) Fransa
- D) İngiltere
- E) Amavutluk

3. Aşağıdakilerden hangisi, 27 Mayıs 1960 askeri müdahalesinin nedenlerinden biri değildir?

- A) Dış ülkelerle olan siyasi ilişkilerin gerginleşmesi
- B) Siyasi yaşamda hoşgörü eksikliklerinin olması
- C) Ekonomik şartların siyasi ortamı gerginleştirmesi
- D) Ekonomide enflasyonist baskının artması
- E) Türkiye'de demokrasinin tam yerleşmemiş olması

4. Bağımsızlığına yeni kavuşan Asya ve Afrika ülkelerinin ABD ve SSCB gibi iki büyük nükleer güç karşısında varlıklarını korumak için birlik ve dayanışmalarını sağlamak amacıyla 1955 yılında yapılan konferans aşağıdakilerden hangisidir?

- A) Londra Konferansı
- B) Helsinki Konferansı
- C) Kahire konferansı
- D) Bandung Konferansı
- E) Paris Konferansı

5. İran-İrak Savaşı hangi tarihler arasında olmuştur?

- A) 1968-1976
- B) 1977-1979
- C) 1980-1988
- D) 1990-1992
- E) 1994-1998

6. Yumuşama Dönemi ile ilgili aşağıdaki ifadelerden hangisi yanlıştır?

- A) Yumuşama politikasının ortaya çıkmasında başlıca etken, nükleer silahlardan konvansiyonel silahlara geçilmesidir.
- B) Blokların, uluslararası ilişkilerde gerginliği azaltmak için karşılıklı görüşmeleri tercih ettiği bir dönemdir.
- C) Bu dönemde izlenen politikalarla, doğu-batı ilişkilerinde çatışma ve gerginlik nispeten azalmıştır.
- D) Yumuşama politikası, barışa varacak yakınlaşma, anlaşma ve işbirliği aşamalarından oluşmaktadır.
- E) Yumuşama süreci, 1961 yılında ABD ve SSCB başkanlarının bir araya gelmesiyle başlamıştır.

7. Pakistan ile Hindistan arasında 1948 yılından günümüze kadar çözümlenemeyen bir sorun olan bölge aşağıdakilerden hangisidir?

- A) Bangladeş
- B) Keşmir
- C) Tayland
- D) Nepal
- E) Tibet

8. Aşağıdakilerden hangisi, Camp David Anlaşmaları'nda alınan kararlardan biri değildir?

- A) Muhtariyet döneminde İsrail'in, Gazze ve Batı Şeria'daki asker sayısını artırması
- B) Gazze ve Batı Şeria'da yaşayan Filistinlilere beş yıllık süre için muhtariyet verilmesi
- C) Filistin halkının meşru haklarının ve adil isteklerinin tanınmasını sağlayacak bir anlaşma yapılması
- D) İsrail ve Ürdün arasında barış müzakereleri yapılması
- E) Muhtariyet döneminde İsrail'in güvenliğini sağlayacak düzenlemeler yapılması

9. 1982 Anayasası'nın en belirgin özelliği aşağıdakilerden hangisidir?

- A) Devlet yönetiminde bireye ağırlık vermesi
- B) Klasik hak ve özgürlüklerle birlikte sosyal ve ekonomik haklara da yer vermesi
- C) Temel hak ve özgürlükleri güvenceli bir statüye oturtması
- D) Toplumsal yaşamda bireye ağırlık vermesi
- E) Hak ve özgürlükler açısından, bireye değil devlete ağırlık vermesi

# A

2012 3D 0105-A

10. Basmacılık adı verilen bağımsızlık mücadelesinin başarısız olmasıyla SSCB'ye bağlanan, SSCB'nin dağılmasıyla bağımsızlığını ilan eden ve bağımsızlığından günümüze kadar başkanlığını İslam Kerimov'un yaptığı devlet aşağıdakilerden hangisidir?

- A) Kırgızistan
- B) Tacikistan
- C) Türkmenistan
- D) Özbekistan
- E) Kazakistan

11. SSCB'nin dağılmasından sonra Nursultan Nazarbayev önderliğinde bağımsızlığını ilan eden, büyük petrol, uranyum, demir, altın ve kurşun rezervlerine sahip olan ve Semey nükleer deneme alanını kapatarak dünya tarihinde ilk defa gönüllü olarak kendi nükleer silah deposundan vazgeçen ülke aşağıdakilerden hangisidir?

- A) Türkmenistan
- B) Kazakistan
- C) Gürcistan
- D) Özbekistan
- E) Azerbaycan

12. Berlin Duvarı'nın yıkılarak iki Almanya'nın resmen birleştiği yıl aşağıdakilerden hangisidir?

- A) 1988
- B) 1989
- C) 1990
- D) 1991
- E) 1992

13. Aşağıdakilerden hangisi küreselleşmenin dünya üzerindeki ekonomik etkilerinden biri değildir?

- A) Ülkelerin önemli bir kısmının ekonomik yönden bütünleşmeye başlaması
- B) Çok uluslu şirketlerin yaygınlaşması
- C) Özelleştirmelerin artması
- D) Uluslararası ticaretin artması
- E) Devletlerin ekonomideki ağırlığının artması

14. Türkiye ile AB arasındaki Gümrük Birliği hangi yıl yürürlüğe girmiştir?

- A) 1992
- B) 1994
- C) 1996
- D) 1998
- E) 2000

15. Türkiye'de 1980 sonrası yapılan ilk milletvekili genel seçimlerini hangi parti kazanmıştır?

- A) ANAP
- B) DYP
- C) SHP
- D) CHP
- E) MHP

16. Aşağıdakilerden hangisi, Türk ekonomisinde bir dönüm noktası olarak nitelendirilen 24 Ocak Kararları'nın amaçlarından biri değildir?

- A) İhracata yönelik üretimi teşvik etmek
- B) Özel sektöre verilen kredilerin faizini yükseltmek
- C) Enflasyonu düşürmek
- D) Ödemeler dengesini düzeltmek
- E) Serbest piyasa ekonomisine geçmek

17. Ürdün, Suriye ve İsrail arasında, aşağıdaki nehirlerden hangisinin suyunun kullanımı konusunda ciddi sorunlar ortaya çıkmıştır?

- A) Asi Nehri
- B) Dicle Nehri
- C) Nil Nehri
- D) Şeria Nehri
- E) Fırat Nehri

18. Kazakistan'ı ilk tanıyan devlet aşağıdakilerden hangisidir?

- A) Azerbaycan
- B) Çek Cumhuriyeti
- C) ABD
- D) İngiltere
- E) Türkiye

19. Türkiye'de ilk renkli televizyon yayını hangi yıl başlamıştır?

- A) 1982
- B) 1984
- C) 1986
- D) 1988
- E) 1990

20. Aşağıdakilerden hangisi Türk Ordusu'nun, TBMM kararları çerçevesinde barışı koruma ve uygulama harekâtlarına barış gücü olarak katıldığı ülkelere biri değildir?

- A) Amavutluk
- B) Afganistan
- C) Somali
- D) Kuveyt
- E) Bosna-Hersek

# SEÇMELİ COĞRAFYA 3

# A

2012 3D 0105-A

1. Aşağıdakilerden hangisi kimyasal tortullardan biridir?

- A) Gabro
- B) Kum taşı
- C) Granit
- D) Traverten
- E) Mermer

2. Aşağıdakilerden hangisi tortul kayaçların en önemli özelliklerinden biridir?

- A) Oluştukları dönemlere ait bitki ve hayvan kalıntılarına sahip olmaları
- B) Kimyasal ve fiziksel ayrışmaya uğramaları
- C) Yer kabuğunun farklı derinliklerindeki taş ve tabakaların aralarına sokularak, yavaş yavaş soğuması
- D) Volkanik faaliyetler sonucu yeryüzüne çıkması
- E) Başkalaşıma uğrayarak değişik kayaçlara dönüşmesi

3. Bazalt, Andezit, Granit gibi kayaçların yaygın olarak bulunduğu bir ülke için aşağıdakilerden hangisi kesin olarak söylenebilir?

- A) Petrol yatakları zengindir.
- B) Yeryüzü şekilleri aşınma düzlüklerinden oluşur.
- C) Volkanizma olayı çok olmuştur.
- D) Buzullaşmanın yaygın olduğu bir ülkedir.
- E) Eski bir kara parçasıdır.

4. Ürgüp-Göreme çevresindeki peribacalarının oluşumunda aşağıdaki kayaçlardan hangisi etkili olmuştur?

- A) Granit
- B) Kömür
- C) Kalker
- D) Obsidiyen
- E) Tuf

5. Aşağıdakilerden hangisi dış püskürük kayaçlardan biridir?

- A) Gnaysa
- B) Bazalt
- C) Jips
- D) Kaya tuzu
- E) Kömür

6. Aşağıdaki ülkelerin hangisinde deprem olma sıklığı daha fazladır?

- A) Libya
- B) İngiltere
- C) Kanada
- D) Japonya
- E) Fransa

7. Karaları meydana getiren ve aynı zamanda okyanusların altında devam eden yerkaşuğu bütün değil parçalar halindedir.

Bu parçalardan her birine ne ad verilir?

- A) Levha
- B) Kıta
- C) Kara
- D) Magma
- E) Lav

8. Yerkaşuğunun yaşlı kıvrım bölgelerinde depremler nadir görülür ve etkileri de önemsizdir.

Aşağıdaki bölgelerden hangisi buna örnek olarak gösterilebilir?

- A) Yunanistan
- B) İtalya
- C) Kanada
- D) Türkiye
- E) Japonya

9. İki okyanussal kıtanın birbirine yaklaştığı yerlerde aşağıdakilerden hangisi oluşmaktadır?

- A) Kıta kabuğu
- B) Volkanik ada yayları
- C) Yanardağ
- D) Ovalar
- E) Sıra dağlar

10. Oluşumunu tamamlamış bir toprak kesitinde, yüzeyden derine doğru birbirinden farklı özellikler gösteren katlara ne ad verilir?

- A) Gayzer
- B) Azonal
- C) Horizon
- D) Tuf
- E) Kalker

# A

2012 3D 0105-A

11. Kayaçların sadece çatlaması, parçalanması ve ufalanması şeklinde görülen ayrışma aşağıdakilerden hangisidir?

- A) Karstik ayrışma
- B) Organik ayrışma
- C) Kimyasal ayrışma
- D) Fiziksel ayrışma
- E) Volkanizma

12. Amerika Kıtası ile Avrupa arasında yer alan okyanusun adı nedir?

- A) Bengal Denizi
- B) Hint Okyanusu
- C) Umman Denizi
- D) Büyük Okyanus
- E) Atlas Okyanusu

13. Aşağıdakilerden hangisi doğum oranlarının yüksek olduğu ülkelerin özelliklerinden biri değildir?

- A) Gelişmiş ülkelerde görülmesi
- B) Az gelişmiş veya ekonomik kalkınmasını henüz tamamlamamış ülkelerde görülmesi
- C) Çocuk ve genç nüfus oranının fazla olması
- D) Kaynaklarının büyük kısmını eğitim faaliyetlerine ayırması
- E) Bağımlı nüfus oranının fazla olması

14. Aşağıdakilerden hangisi nüfus dağılışıında etkili olan doğal etmenlerden biri değildir?

- A) İklim
- B) Sanayi
- C) Toprak verimliliği
- D) Bitki örtüsü
- E) Yerçekilleri

15. Aşağıdakilerin hangisinde nüfus miktarı daha fazladır?

- A) Hollanda
- B) Brezilya
- C) Kanada
- D) Çin
- E) Romanya

16. Aşağıdakilerden hangisi hızlı ve çarpık kentleşmenin nedenlerinden biridir?

- A) Fabrikaların kent merkezi içinde kalması
- B) Çevre kirliliği
- C) Konut yetersizliği
- D) Alt yapı yetersizliği
- E) Köyden kente göç

17. 1960'lı yıllardan sonra ülkemizden Batı Avrupa'ya yapılan göçlerin nedeni aşağıdakilerden hangisidir?

- A) İşçi ihtiyacı
- B) Savaşlar
- C) Nüfus artışı
- D) Erozyon
- E) Mübadele

18. Beyin göçünün göç veren ülke için en önemli sonucu aşağıdakilerden hangisidir?

- A) Ülke kalkınmasına faydası
- B) İşsizliğin artması
- C) Ülkenin, eğitim görmüş insanlarını kaybetmesi
- D) Ülkede sağlık sorunlarının yaşanması
- E) Ülkeye döviz gimesi

19. İlk insanların barınaklarının mağara, kaya sığınaklarının olduğu, geçimlerini avcılık yaparak sağladıkları, küçük gruplar halinde ve göçebe olarak yaşadıkları dönem aşağıdakilerden hangisidir?

- A) Mezolitik çağ
- B) Paleolitik çağ
- C) Kalkolitik çağ
- D) Demir çağı
- E) Neolitik çağ

20. Neolitik çağda insanların geçim tarzlarında nasıl bir değişme olmuştur?

- A) Avcılık ve toplayıcılık başlamıştır.
- B) Madencilik gelişmiştir.
- C) Devletler arası ticaret gelişmiştir.
- D) Sanayi devrimine geçilmiştir.
- E) Tarım başlamıştır.

# SEÇMELİ ALMANCA 4

# A

2012 3D 0105-A

Bu testin cevaplarını, cevap anahtarında SEÇMELİ YABANCI DİL 4 sütununa işaretleyiniz.

1. Was für ein nett..... Junge.

Welche Endung paßt in die obige Lücke?

Cümlede boş bırakılan yeri aşağıdakilerden hangisi doğru olarak tamamlar?

- A) -est
- B) -es
- C) -este
- D) -er
- E) -e

2. Der Tisch ist neu. .... Tisch kostet viel.

Welches Wort paßt in die obige Lücke?

Cümlede boş bırakılan yeri aşağıdakilerden hangisi doğru şekilde tamamlar?

- A) Die neurer
- B) Der neuer
- C) Die neuste
- D) Der neue
- E) Das neue

3. Saat sekizde büroda olmam gerekir.

Wie lautet der obige Satz auf deutsch?

Verilen cümlelerin Almancası aşağıdakilerden hangisidir?

- A) Ich soll um 08.00 Uhr das Büro verlassen.
- B) Ich darf morgens um 08.00 Uhr ins Büro gehen.
- C) Ich will jeden morgen um 08.00 Uhr ins Büro.
- D) Ich kann um 08.00 Uhr im Büro sein.
- E) Ich muß um 08.00 Uhr im Büro sein.

4. Kinder ..... früh schlafen.

Welches Wort paßt nicht in die obige Lücke?

Cümlede boş bırakılan yeri aşağıdakilerden hangisi doğru şekilde tamamlamaz?

- A) müßten
- B) sollten
- C) haben
- D) sollen
- E) müssen

5. Meine Mutter sagt jeden Tag, daß ich früh aufstehen soll! Sie sagt. "....."

Welches ergänzt die obige Lücke?

Yukarıda boş bırakılan yeri aşağıdakilerden hangisi doğru olarak tamamlar?

- A) Steht früh auf!
- B) Steh früh auf!
- C) Stehte früh auf!
- D) Stehen früh auf!
- E) Stehst früh auf!

6. Dem Kaufmann nicht vertrauen.

Wie lautet der obige Satz in der Imperativ-Form?

Verilen cümlelerin emir cümle şekli aşağıdakilerden hangisidir?

- A) Vertraust dem Kaufmann nicht!
- B) Du darfst dem Kaufmann nicht vertrauen!
- C) Vertraue dem Kaufmann nicht!!
- D) Vertraue nur dem Kaufmann!
- E) Vertrauen dem Kaufmann!

7. Ich hätte gern ein neues Haus.

Wie lautet die Frage für die obige Antwort?

Verilen cümleye yönelik soru cümlesi aşağıdakilerden hangisidir?

- A) Wer hat dir das gesagt?
- B) Was hättest du gern?
- C) Was machst du da?
- D) Warum kommst du nicht mit?
- E) Was hast du gemacht?

# A

## 2012 3D 0105-A

8. Ich muss meinem Vater ....., ..... ich ein neues Auto brauche.

**Welche Wörter passen in die obigen Lücken?**

**Cümlede boş bırakılan yerleri aşağıdakilerden hangileri doğru şekilde tamamlar?**

- A) erkläre / noch
- B) sagen / hätte
- C) erklärt / sonst
- D) sagte / hatten
- E) erklären / daß

9. Sie ..... noch schneller zu rennen, wenn sie den Bus erreichen will.

**Welches Wort paßt in die obige Lücke?**

**Cümlede boş bırakılan yeri aşağıdakilerden hangisi doğru olarak tamamlar?**

- A) hat
- B) habest
- C) sollt
- D) müßt
- E) hätte

10. Soll er seine Hausaufgaben heute machen?

**Welche Antwort paßt zur obigen Frage?**

**Verilen sorunun cevabı aşağıdakilerden hangisidir?**

- A) Ja, er braucht immer Hilfe, um diese zu machen.
- B) Nein, er hat es machen wollen.
- C) Ja, er hat seine Hausaufgaben gestern gemacht.
- D) Nein, er braucht keine Hilfe, um die Hausaufgaben zu machen.
- E) Nein, er braucht sie heute nicht zu machen.

11. .... er mich anrief, machte ich meine Hausaufgaben.

**Welches Wort paßt in die obige Lücke?**

**Cümlede boş bırakılan yeri aşağıdakilerden hangisi doğru şekilde tamamlar?**

- A) Damit
- B) Falls
- C) Weil
- D) Als
- E) Wenn

12. .... du Kinderarzt werden willst, mußt du studieren.

**Welches Wort paßt in die obige Lücke?**

**Cümlede boş bırakılan yeri aşağıdakilerden hangisi doğru şekilde tamamlar?**

- A) Damit
- B) Wenn
- C) Denn
- D) Warum
- E) Weshalb

13. In diesem Einkaufszentrum kann man ..... Schuhe finden.

**Welches Wort paßt in die obige Lücke?**

**Cümlede boş bırakılan yeri aşağıdakilerden hangisi doğru şekilde tamamlar?**

- A) der teurere
- B) die teuerste
- C) der teure
- D) die teuersten
- E) das teure

14. Die ..... Touristen machen Urlaub am Meer. (viel)

**Welches Wort paßt in die obige Lücke?**

**Cümlede boş bırakılan yeri aşağıdakilerden hangisi doğru şekilde tamamlar?**

- A) mehrsten
- B) meisten
- C) viele
- D) vielsten
- E) vielen

2012 3D 0105-A

15. Ich lerne deutsch, .....

**Welches ergänzt nicht den obigen Satz?****Verilen cümleyi aşağıdakilerden hangisi doğru olarak tamamlamaz?**

- A) um die deutschen Fachbücher im Originalen lesen zu können.
- B) damit ich zum Kurs gehen wollte.
- C) weil ich in Deutschland Urlaub machen will.
- D) damit ich deutsche Literaturwerke lesen kann.
- E) weil ich in der Firma Karriere machen will.

16. ...., weil er erst 16 Jahre alt ist.

**Welches ergänzt die Lücke im obigen Satz?****Verilen cümleyi aşağıdakilerden hangisi tamamlar?**

- A) Sie kümmert sich immer um Kranke
- B) In jeder Stadt befindet sich ein Info-Büro
- C) Ahmet darf nicht Auto fahren
- D) Wir können uns ein Haus kaufen
- E) Die Polizei will den Täter herausfinden

17. Meine Mutter kocht jeden Tag, das bedeutet sie kocht .....

**Welches Wort paßt in die obige Lücke?****Cümlede boş bırakılan yeri aşağıdakilerden hangisi doğru şekilde tamamlar?**

- A) immer
- B) niemals
- C) selten
- D) manchmal
- E) nachts

18. Ich bin völlig außer Atem.

**Wie lautet der obige Satz auf türkisch?****Verilen cümlelerin Türkçesi aşağıdakilerden hangisidir?**

- A) Nefes nefese kaldım.
- B) Nefes alamıyorum.
- C) Nefesim tıkanı.
- D) Nefesimi tuttum.
- E) Nefes nefese geldim.

19. Er hat sich ein neues Auto gekauft. Ich habe es gesehen.

**Wie kann man die obigen Sätze mit "daß" verbinden?****Verilen cümlelerin "daß" ile birleştirilmiş hali aşağıdakilerden hangisidir?**

- A) Ich hatte gesehen, daß er sich ein neues Auto kaufen wollte.
- B) Daß er sich ein neues Auto kaufen will, habe ich gesehen.
- C) Daß er sich ein neues Auto kauft stimmt, weil ich es gesehen habe.
- D) Ich habe mir ein neues Auto gekauft, daß stimmt.
- E) Ich habe gesehen, daß er sich ein neues Auto gekauft hat.

20. Alle Kinder freuen sich, ..... die Eltern mit ihnen spielen.

**Welches Wort paßt in die obige Lücke?****Cümlede boş bırakılan yeri aşağıdakilerden hangisi doğru şekilde tamamlar?**

- A) wenn
- B) wie
- C) die
- D) was
- E) denn



# SEÇMELİ FRANSIZCA 4

# A

2012 3D 0105-A

Bu testin cevaplarını, cevap anahtarında SEÇMELİ YABANCI DİL 4 sütununa işaretleyiniz.

1. Ma cravate est en lain, ..... de mon ami est en cuir.

Choisissez le mot qui convient.

Cümledeki boşluğu aşağıdakilerden hangisi doğru şekilde tamamlar?

- A) celui
- B) c'est
- C) ce
- D) celle
- E) ceux

2. Ahmet: - .....  
Ömer: - Non, ce ne sont pas ceux de mon frère.

Choisissez la question qui convient.

Yukarıdaki konuşmada cevabı gerektiren soru aşağıdakilerden hangisidir?

- A) Ce sont les chemises de son frère?
- B) Ces chaises sont libres?
- C) Ceux-ci ou ceux-là?
- D) Ce sont les livres de ton frère?
- E) Qu'est-ce que c'est?

3. Ali a 25 livres, Hakan a 42 livres. Ali a ..... de livres que Hakan.

Choisissez le mot qui convient.

Cümledeki boşluğu aşağıdakilerden hangisi doğru şekilde tamamlar?

- A) mieux
- B) plus
- C) autant
- D) aussi
- E) moins

4. C'est la plus belle maison de la ville.

Choisissez la traduction qui convient.

Yukarıdaki cümlenin Türkçe karşılığı aşağıdakilerden hangisidir?

- A) Bu ev, şehrin en güzel yerindedir.
- B) Bu şehirde evler çok güzeldir.
- C) Şehrin en güzel evi budur.
- D) Bu evler, şehri çok güzelleştirmektedir.
- E) Bu şehirdeki evlerin hepsi çok güzeldir.

5. Mireille: - .....  
Jacques: - Oui, c'est la mienne.

Choisissez la question qui convient.

Yukarıdaki konuşmada cevabı gerektiren soru aşağıdakilerden hangisidir?

- A) Est-ce que ce poste de télévision est à vous?
- B) Est-ce que cette clé est à toi?
- C) Est-ce que ces chats sont à ton fils?
- D) Est-ce que cette chemise est à Pierre?
- E) Est-ce que ce manteau est à lui?

6. Ce sont leurs calculatrices; ce sont ..... .

Choisissez le mot qui convient.

Cümledeki boşluğu aşağıdakilerden hangisi doğru şekilde tamamlar?

- A) la vôtre
- B) la leur
- C) les leurs
- D) les siennes
- E) les tiennes

7. Quand vous sortirez, vous ..... la porte.

Choisissez le mot qui convient.

Cümledeki boşluğu aşağıdakilerden hangisi doğru şekilde tamamlar?

- A) avez fermé
- B) fermerez
- C) fermeriez
- D) aviez fermé
- E) fermeront

# A

2012 3D 0105-A

8. J'ai vu quelqu'un dans le salon.

Choisissez l'antonyme du mot souligné.

Yukarıdaki cümlede altı çizili sözcüğün zıt anlamlısı aşağıdakilerden hangisidir?

- A) justement
- B) rien
- C) quelque chose
- D) instant
- E) personne

9. Quand elle habitait à Paris, elle ..... dans un magasin.

Choisissez le mot qui convient.

Cümledeki boşluğu aşağıdakilerden hangisi doğru şekilde tamamlar?

- A) travaillait
- B) travaillant
- C) travaillera
- D) travaillé
- E) travaille

10. ...., les élèves iront à l'école.

Choisissez le mot qui convient.

Cümledeki boşluğu aşağıdakilerden hangisi doğru şekilde tamamlar?

- A) La semaine dernière
- B) Avant-hier
- C) Hier
- D) La veille
- E) Demain

11. Nicolas écoute ..... le professeur.

Choisissez le mot qui convient.

Cümledeki boşluğu aşağıdakilerden hangisi doğru şekilde tamamlar?

- A) rapidement
- B) couramment
- C) violemment
- D) attentivement
- E) légèrement

12. Regardez ces livres; ..... beaux livres.

Choisissez le mot qui convient.

Cümledeki boşluğu aşağıdakilerden hangisi doğru şekilde tamamlar?

- A) que
- B) quels
- C) quelles
- D) quelle
- E) quel

13. Mon père aime aller au cinéma contrairement à mon oncle.

Choisissez la traduction qui convient.

Yukarıdaki cümlelerin Türkçe karşılığı aşağıdakilerden hangisidir?

- A) Amcam gibi babam da sinemaya gitmeyi seviyor.
- B) Amcama rağmen babam sinemaya gitmek istiyor.
- C) Amcam da babam da sinemaya gitmeyi seviyorlar.
- D) Amcamın tersine, babam sinemaya gitmeyi seviyor.
- E) Babam sinemaya gitmeyi seviyor, fakat amcam sevmiyor.

14. Ce garçon est très méchant, ..... il est intelligent.

Choisissez le mot qui convient.

Cümledeki boşluğu aşağıdakilerden hangisi doğru şekilde tamamlar?

- A) assez
- B) mais
- C) inconnu
- D) malgré
- E) contrairement à

## 2012 3D 0105-A

15. Dans quelques minutes, nous ..... terminer ce travail.

Choisissez le mot qui convient.

Cümledeki boşluğu aşağıdakilerden hangisi doğru şekilde tamamlar?

- A) voudrez
- B) allons
- C) pouvez
- D) sommes
- E) avons

16. Il ne prend rien; il ..... manger.

Choisissez le mot qui convient.

Cümledeki boşluğu aşağıdakilerden hangisi doğru şekilde tamamlar?

- A) vient
- B) vais
- C) vient de
- D) est
- E) veut

17. Bir kahve alır mıydınız?

Choisissez la traduction qui convient.

Yukarıdaki cümlelerin Fransızca karşılığı aşağıdakilerden hangisidir?

- A) Prendriez-vous un café?
- B) Qu'est-ce que vous prenez?
- C) Vous préférez le café?
- D) Veux-tu boire un café?
- E) Vous prenez le café, comme boisson?

18. Si j'avais beaucoup d'argent, je(j') ..... plus heureux.

Choisissez le mot qui convient.

Cümledeki boşluğu aşağıdakilerden hangisi doğru şekilde tamamlar?

- A) serais
- B) suis
- C) étais
- D) ai été
- E) vais être

19. Avec cette somme d'argent, elle aurait pu ..... une galerie de peinture à Paris.

Choisissez le mot qui convient.

Cümledeki boşluğu aşağıdakilerden hangisi doğru şekilde tamamlar?

- A) promettre
- B) vêtir
- C) bouger
- D) cacher
- E) ouvrir

20. La valeur du tableau ..... été plus élevée.

Choisissez le mot qui convient.

Cümledeki boşluğu aşağıdakilerden hangisi doğru şekilde tamamlar?

- A) aurait
- B) as
- C) sera
- D) est
- E) était

# SEÇMELİ İNGİLİZCE 4

# A

2012 3D 0105-A

Bu testin cevaplarını, cevap anahtarında  
SEÇMELİ YABANCI DİL 4 sütununa  
işaretleyiniz.

1. If I ..... you, I would wear my raincoat.

Which of the following completes the sentence above?

Aşağıdakilerden hangisi yukarıdaki cümleyi doğru olarak tamamlar?

- A) must be
- B) could have been
- C) could
- D) were
- E) can

2. Carol bought an expensive shirt. That was a mistake. She wishes she ..... an expensive shirt.

Which of the following completes the sentence above?

Aşağıdakilerden hangisi yukarıdaki cümleyi doğru olarak tamamlar?

- A) don't buy
- B) couldn't buy
- C) didn't buy
- D) hadn't bought
- E) haven't bought

3. If Esra had had some money, she ..... a new briefcase.

Which of the following completes the sentence above?

Aşağıdakilerden hangisi yukarıdaki cümleyi doğru olarak tamamlar?

- A) must buy
- B) must have bought
- C) could buy
- D) would buy
- E) would have bought

4. I don't have a computer, but I need one. I wish I ..... a computer.

Which of the following completes the sentence above?

Aşağıdakilerden hangisi yukarıdaki cümleyi doğru olarak tamamlar?

- A) have
- B) has
- C) had
- D) had had
- E) could have

5. A: Can you speak Russian?  
B: No I can't, but I wish I ..... speak Russian.

Which of the following completes the dialogue above?

Aşağıdakilerden hangisi yukarıdaki konuşmayı doğru olarak tamamlar?

- A) will
- B) could
- C) can
- D) must
- E) might

6. I missed the train yesterday. I wish I ..... the train.

Which of the following completes the sentence above?

Aşağıdakilerden hangisi yukarıdaki cümleyi doğru olarak tamamlar?

- A) haven't missed
- B) can't miss
- C) hadn't missed
- D) don't miss
- E) didn't miss

7. If I ..... enough time, I will visit my uncle.

Which of the following completes the sentence above?

Aşağıdakilerden hangisi yukarıdaki cümleyi doğru olarak tamamlar?

- A) have had
- B) have
- C) had
- D) will have
- E) am having

# A

2012 3D 0105-A

8. I live in Erzurum. I wish I ..... in Antalya.

Which of the following completes the sentence above?

Aşağıdakilerden hangisi yukarıdaki cümleyi doğru olarak tamamlar?

- A) living
- B) have lived
- C) had lived
- D) live
- E) lived

9. If I had time, I ..... go to the cinema.

Which of the following completes the sentence above?

Aşağıdakilerden hangisi yukarıdaki cümleyi doğru olarak tamamlar?

- A) would
- B) must
- C) should
- D) can
- E) will

10. I would have.....Uludağ if I had been to Bursa.

Which of the following completes the sentence above?

Aşağıdakilerden hangisi yukarıdaki cümleyi doğru olarak tamamlar?

- A) visits
- B) visiting
- C) will visit
- D) visit
- E) visited

11. If he ..... pass his exams, he won't get a good job.

Which of the following completes the sentence above?

Aşağıdakilerden hangisi yukarıdaki cümleyi doğru olarak tamamlar?

- A) hasn't
- B) wouldn't
- C) didn't
- D) doesn't
- E) won't

12. The State should support the private enterprise.

Which of the following is the Turkish translation of the sentence above?

Aşağıdakilerden hangisi yukarıdaki cümlelerin Türkçe karşılığıdır?

- A) Özel sektör, devleti destekler.
- B) Devlet, özel sektöre destek vermelidir.
- C) Devletçilik ilkesi özel sektöre karşı çıkar.
- D) Ekonomik kalkınmanın gerçekleşmesi için özel sektörün gelişmesi gerekir.
- E) Devlet özel sektörü desteklememelidir.

13. Türk Devleti toprağı ve halkı ile bölünmez bir bütündür.

Which of the following is the English translation of the sentence above?

Aşağıdakilerden hangisi yukarıdaki cümlelerin İngilizce karşılığıdır?

- A) It is only the republican regime which can best represent the wishes of people.
- B) The modernization of Turkey is dependent on economic and technological development.
- C) Through reformism, Turkey can reach level of contemporary civilization.
- D) The Turkish State is an indivisible whole comprising its territory and people.
- E) The state should support the private enterprise

14. If you ..... , you can see her.

Which of the following completes the sentence above?

Aşağıdakilerden hangisi yukarıdaki cümleyi doğru olarak tamamlar?

- A) waited
- B) wait
- C) could wait
- D) have waited
- E) would wait

## 2012 3D 0105-A

15. I have to go to school tomorrow. I wish I ..... to school tomorrow.

Which of the following completes the sentence above?

Aşağıdakilerden hangisi yukarıdaki cümleyi doğru olarak tamamlar?

- A) should go
- B) didn't have to go
- C) don't have to go
- D) must go
- E) have gone

16. If Jack has a lot of money, he ..... a new car.

Which of the following completes the sentence above?

Aşağıdakilerden hangisi yukarıdaki cümleyi doğru olarak tamamlar?

- A) bought
- B) buy
- C) will buy
- D) would buy
- E) has bought

17. If it ..... , I will wear my raincoat.

Which of the following completes the sentence above?

Aşağıdakilerden hangisi yukarıdaki cümleyi doğru olarak tamamlar?

- A) rains
- B) raining
- C) rained
- D) has rained
- E) will rain

18. If I go to Kastamonu, I ..... him.

Which of the following completes the sentence above?

Aşağıdakilerden hangisi yukarıdaki cümleyi doğru olarak tamamlar?

- A) will contact
- B) should have contacted
- C) have contacted
- D) would contact
- E) contacted

19. If the final ..... cancelled, what would've happened?

Which of the following completes the sentence above?

Aşağıdakilerden hangisi yukarıdaki cümleyi doğru olarak tamamlar?

- A) had
- B) is
- C) will be
- D) has
- E) had been

20. I wish I ..... in İstanbul now.

Which of the following completes the sentence above?

Aşağıdakilerden hangisi yukarıdaki cümleyi doğru olarak tamamlar?

- A) were
- B) can be
- C) must be
- D) should be
- E) am

2012 3D 0105-A

1. Aşağıdakilerden hangisi sosyal iyilik halini oluşturan koşullardan biri değildir?

- A) Meslek edinerek ekonomik kazanç elde edebilmesi
- B) Ailesi ile olumlu ve yapıcı ilişkiler kurabilmesi
- C) İş arkadaşları ile olumlu ilişkiler kurabilmesi
- D) Kişinin güçlüklerle direnebilmesi
- E) Yaşam koşullarının yeterli olması

2. İnsanlarda dengesiz ve düzensiz beslenme alışkanlıklarına bağlı olarak hastalıkların ortaya çıkması aşağıdaki sağlığa etki eden etmenlerden hangisinin kapsamında yer alır?

- A) Psikolojik etmenler
- B) Kimyasal etmenler
- C) Biyolojik etmenler
- D) Bünyesel etmenler
- E) Fiziksel etmenler

3. Hastanın rahatsızlığının uzman doktorlar tarafından teşhis ve tedavi edilmesi için yataklı sağlık kuruluşunda verilen hizmetlere ne ad verilir?

- A) İkinci basamak tedavi hizmeti
- B) Birinci basamak tedavi hizmeti
- C) Tıbbi rehabilitasyon
- D) Mesleki rehabilitasyon
- E) Birinci aşama koruyucu sağlık hizmeti

4. Aşağıdakilerden hangisi birinci basamaktaki sağlık görevlilerinden biri değildir?

- A) Sağlık memuru
- B) Fizyoterapist
- C) Doktor
- D) Ebe
- E) Hemşire

5. I. Biyolojik etmenler  
II. Kimyasal etmenler  
III. Fiziksel etmenler  
IV. Psikolojik etmenler

Yukarıdakilerden hangileri insan sağlığını etkileyen çevresel etmenlerden biridir?

- A) I ve II
- B) II ve IV
- C) I, II ve III
- D) II, III ve IV
- E) I, II, III ve IV

6. Dişlerin iyi temizlenmemesi sonucu, bakterilerin diş yüzeyindeki besinlerden yapışkan bir madde üreterek dişe yapışması sonucu oluşturdıkları tabakaya ne ad verilir?

- A) Diş çürüğü
- B) Diş plağı
- C) Diş minesi
- D) Diş iltihabı
- E) Diş apsesi

7. Ayak sağlığı ile ilgili aşağıdaki ifadelerden hangisi yanlıştır?

- A) Ayaklar uygun aralıklarla ılık suda bekletilmelidir.
- B) Ayak yapısına uygun olmayan ayakkabılar kan dolaşımı yetersizliğine neden olur.
- C) Ucu sivri ve topuklu ayakkabılar tercih edilmemelidir.
- D) Ayaklar yıkandıktan sonra, el ve yüz havlusu ile iyice kurulmalıdır.
- E) Başkalarının terlik, çorap ve ayakkabıları giyilmemelidir.

8. El temizliği ile ilgili aşağıdaki ifadelerden hangisi doğrudur?

- A) El tımakları kesildikten sonra mutlaka sabunla yıkanmalıdır.
- B) El tımakları düz kesilmelidir.
- C) Tımak kenarlarında oluşan sertleşmiş deri parçaları koparılmalıdır.
- D) El tımakları düz kesilmediğinde tımak batmalarına neden olabilir.
- E) Kesilen tımak kenarları antiseptik maddeyle temizlenmemelidir.

9. Aşağıdaki maddelerden hangisi dişlerde çürük oluşumunu engelleyerek diş sağlığını olumlu yönde etkiler?

- A) Magnezyum
- B) İyot
- C) Flor
- D) Demir
- E) Çinko

10. Ayakta nasır oluşumun en önemli nedeni aşağıdakilerden hangisidir?

- A) Ayakların her akşam yıkanmaması
- B) Giyilen çorapların pamuklu olmaması
- C) Her gün çorapların değiştirilmesi
- D) Ayakkabıların topuksuz ve ucunun geniş ve yuvarlak olması
- E) Uygun ayakkabı seçiminin yapılmaması

2012 3D 0105-A

11. Sağlıklı bir yaşam için doğumdan itibaren büyüme ve gelişmede etkili olan, aşağıdaki faktörlerden hangisi anne ve babadan çocuklara geçen kalıtsal özellikleri ifade eder?
- A) Fiziki çevre  
B) Hormonal yapı  
C) Zararlı alışkanlıklar  
D) Genetik  
E) Beslenme
12. Kişinin kendisi ve çevresiyle dengeli ve uyumlu bir ilişki sürdürebilmesine ne ad verilir?
- A) Etkileşim  
B) Gelişme  
C) Ruh sağlığı  
D) Ruh bilimi  
E) Kültürel etkinlik
13. Özellikle yetişkinlik ve yaşlılık dönemlerinde toplumsal çatışmalar, kaygı ve stresin yaşanması aşağıdaki ruh sağlığını etkileyen kişisel faktörlerden hangisinin kapsamında yer alır?
- A) Medeni durum  
B) Yaş  
C) Mesleki durum  
D) Kişinin alışkanlıkları  
E) Cinsiyet
14. Cinsel olgunlaşmanın tamamlandığı dönem aşağıdakilerden hangisidir?
- A) Tam ergenlik dönemi  
B) Yetişkinlik dönemi  
C) Özerklik dönemi  
D) Erken ergenlik dönemi  
E) Geç ergenlik dönemi
15. Aşağıdakilerden hangisi ergenlik döneminde hem kızlarda hem de erkeklerde görülen fiziksel değişimdir?
- A) Boy ve kilo artışı  
B) Sakal ve bıyığın çıkması  
C) Sesin kalınlaşması  
D) Göğüslerin belirginleşmesi  
E) Adet döngüsü

16. Sigaranın bağımlılık yapmasına neden olan madde aşağıdakilerden hangisidir?
- A) Karbonmonoksit  
B) Nikotin  
C) Naftalin  
D) Katran  
E) Aseton
17. Sağlık açısından sigara, alkol ve uyuşturucu madde kullanımıyla ilişkili ilk kavram aşağıdakilerden hangisidir?
- A) İrade  
B) Zayıflık  
C) Bağımlılık  
D) Keyif  
E) Yoksunluk
18. Aşağıdakilerden hangisi alkol kullanımının sebeplerinden biri değildir?
- A) Ekonomik zorluklar yaşama  
B) Sorunlarla baş edebilme gücünü kendinde bulamama  
C) Saygı göreceğini düşünme  
D) Bir gruba dahil olma isteği  
E) Kişiliğin oturmuş olması
19. Sigaranın sağlığa zararları ile ilgili aşağıdaki ifadelerden hangisi yanlıştır?
- A) Sigara kullanan annelerin bebeklerinde zeka geriliği riski yüksektir.  
B) Sigara kalp krizi riskini artırır.  
C) Sigara hücre yapısını bozar  
D) Sigara, rahim ağzı kanserinin en önemli nedenidir.  
E) Sigara damar yapısının bozulmasına neden olur.
20. Siroz aşağıdaki organlardan hangisinin hastalığıdır?
- A) Karaciğer  
B) Göz  
C) Akciğer  
D) Bağırsaklar  
E) Mide



# SEÇMELİ COĞRAFYA 4

# A

2012 3D 0105-A

1. Ülkemizde maki ve çalılıkların yaygın olarak görüldüğü dağlık alanlarda daha çok hangi tür hayvancılık yapılır?

A) İpek böceği  
B) Kıl keçisi  
C) Sığır  
D) Koyun  
E) İnek

2. Aşağıdakilerden hangisi, Türkiye'de birbirinden farklı iklim özelliklerinin görülmesine kanıt değildir?

A) Dağınık ve toplu yerleşmelerin görülmesi  
B) Turizm mevsiminin güneyde daha erken başlaması  
C) Çeşitli tarım ürünlerinin yetiştirilmesi  
D) Çeşitli akarsu rejimlerinin görülmesi  
E) Doğal bitki örtüsünün farklılıklar göstermesi

3. Türkiye'de aşağıdaki göllerden hangisi yoktur?

A) Volkanik göller  
B) Alüvyal set gölleri  
C) Heyelan set gölleri  
D) Moren set gölleri  
E) Tektonik göller

4. Yer şekillerinin engebeli, eğimin fazla olduğu yerlerde hidroelektrik enerji potansiyeli yüksek olur.

Buna göre aşağıdaki akarsularımızdan hangisinin hidroelektrik potansiyeli daha yüksektir?

A) Küçük Menderes  
B) Susurluk  
C) Fırat  
D) Sakarya  
E) Gediz

5. Ege Bölgesinde makilerin kıydan iç kesimlere doğru genişlemesinde aşağıdakilerden hangisinin payı fazladır?

A) Enlem  
B) Yükselti  
C) Ekvator'a olan uzaklık  
D) Meridyenler  
E) Dağların uzanış yönü

6. Çay ve kivi yetiştirmek için en uygun toprak aşağıdakilerden hangisidir?

A) Kahverengi orman toprakları  
B) Kırmızı Akdeniz toprakları  
C) Kahverengi bozkır toprakları  
D) Kestane renkli bozkır toprakları  
E) Kara topraklar

7. Aşağıdakilerden hangisi ormanlardan elde edilen yan ürünlerden biridir?

A) Sunta  
B) Çam kozalağı  
C) Parke  
D) Mobilya  
E) Tomruk

8. Aşağıdakilerden hangisi makiyi oluşturan bitkilerden biridir?

A) Yasemin  
B) Funda  
C) Diken çalısı  
D) Keçi boynuzu  
E) Laden

9. Ege kıyılarında yer almasına rağmen yükselti ve engebenin fazla olması nedeniyle yerleşim alanları sınırlı, nüfus yoğunluğu az olan yöremiz aşağıdakilerden hangisidir?

A) Kuşadası  
B) Büyük Menderes vadisi  
C) Menteşe  
D) Manisa  
E) Gediz ovası

10. Yağışın olduğu yerlerde nüfus yoğunluğu fazladır.

Bu özellik aşağıdaki yerlerden hangisi için geçerli değildir?

A) Ege kıyıları  
B) Trabzon  
C) Rize  
D) Antalya  
E) Menteşe yöresi

# A

2012 3D 0105-A

11. Köyaltı yerleşme tiplerinden olan divan tipi yerleşme aşağıdaki illerimizin hangisinde daha yaygın olarak görülür?

- A) Antalya, Mersin, Adana
- B) Sivas, Kayseri, Nevşehir
- C) Muğla, Denizli, Burdur
- D) Bolu, Karabük, Kastamonu
- E) Van, Bitlis, Siirt

12. Aşağıdakilerden hangisi Türkiye' de nüfus ve yerleşmenin dağılışı etkileyen beşeri faktörlerden biridir?

- A) İklim
- B) İç ve dış göçler
- C) Yeryüzü şekilleri
- D) Su kaynakları
- E) Bitki örtüsü

13. Aşağıdakilerden hangisi Türkiye' de geçici kıy yerleşmelerinden biridir?

- A) Dam
- B) Mahalle
- C) Çiftlik
- D) Başkent
- E) Köy

14. Aşağıdakilerden hangisi akarsu kenarında kurulan şehirlerin özelliklerinden biri değildir?

- A) Ulaşım imkanına sahip olması
- B) İhtiyacı karşılayacak pazar ve alışveriş malzemeleri olması
- C) Geniş bir hinterlandı olması
- D) Sanayisinin tarıma dayalı olması
- E) Verimli ve geniş tarım arazisine sahip olması

15. 1927-2000 yılları arasında Türkiye'de şehir nüfusu köy nüfusuna göre daha çok artış göstermiştir. Şehir nüfusundaki artış hızının çok olmasında aşağıdakilerden hangisi daha çok etkilidir?

- A) Evli nüfusun artması
- B) Sağlık koşullarının iyileşmesi
- C) Ortalama ömrün uzaması
- D) Çocuk ölümlerinin azalması
- E) Göçle gelen nüfusun artması

16. Bir ülkenin kırsal alanlarında ve kentlerinde bulunan nüfus miktarları, o ülkenin aşağıdaki özelliklerinden hangisini gösterir?

- A) Siyasi durumunu
- B) Coğrafi yapısını
- C) Kültürel yapısını
- D) Ekonomik ve sosyal yapısını
- E) Geleneklerini

17. Daima batıya giderek aynı noktaya ulaşan ve böylece dünyanın yuvarlak olduğunu kanıtlayan denizci aşağıdakilerden hangisidir?

- A) Bartelmi Diyaz
- B) Kolomb
- C) Macellan
- D) Vasko dö Gama
- E) Ameriko Vespuçi

18. Kuzey ve Güney Amerika kıtaları arasında yer alan Büyük Okyanus ile Atlas Okyanusu'nu birleştiren kanal aşağıdakilerden hangisidir?

- A) Panama
- B) Babülmendep
- C) Cebeli Tarık
- D) Hümmüz
- E) Süveyş

19. Elektronik iletişim aşağıdakilerden hangisiyle başlamıştır?

- A) Bilgisayarın icadıyla
- B) Telgraf hattının kurulmasıyla
- C) Matbaanın icat edilmesiyle
- D) Yazının kullanılmasıyla
- E) Kağıdın kullanılmasıyla

20. Panama Kanalı ile ilgili aşağıdaki ifadelerden hangisi doğrudur?

- A) Dünyada kapakları olmayan en uzun kanaldır.
- B) Hint Okyanusu ve ötesine bağlantıyı sağlamıştır.
- C) Karadan Afrika ve Asya' yı birbirine bağlar.
- D) Mısır topraklarında bulunan ve Akdeniz ile Kızıldeniz' i birleştiren 161 km uzunluğunda su yoludur.
- E) Kanalin yapımına Fransız ve ABD işbirliğiyle 1880 yılında başlanmış 1914' te tamamlanmıştır.

# SEÇMELİ TÜRK EDEBİYATI 5

# A

2012 3D 0105-A

1. Ölen bir kişinin ardından onun kahramanlıklarını, yiğitliklerini anlatmak için yazılan eserlere ne ad verilir?

A) Rubai  
B) Terkibibent  
C) Tercibent  
D) Mersiye  
E) Murabba

2. Edebiyat ile ilgili aşağıdaki ifadelerden hangisi yanlıştır?

A) Toplumların gelişimine katkıda bulunur.  
B) Düşünceleri geliştirir, duyguları zenginleştirir.  
C) Toplumların siyasal ve sosyal yapısından etkilenir.  
D) Tarih biliminden yararlanır.  
E) Sadece tanık olduğu çağı anlatır.

3. "Vatan, millet, özgürlük, hak, eşitlik, adalet, uygarlık" gibi kavramların edebiyata ilk olarak girdiği dönem aşağıdakilerden hangisidir?

A) Yükselme  
B) I.Meşrutiyet  
C) Kuruluş  
D) Tanzimat  
E) II.Meşrutiyet

4. Türk Edebiyatında yeniliklerin öncüsü olan, noktalama işaretlerini ilk defa kullanan, La Fontaine'den tercümeler yapan ve "Şair Evlenmesi" adlı ilk piyesi yazan sanatçı aşağıdakilerden hangisidir?

A) Ahmet Mithat Efendi  
B) Şinasi  
C) Ziya Paşa  
D) Recaizâde Mahmut Ekrem  
E) Namık Kemal

5. Aşağıdakilerden hangisi Tanzimat sanatçılarından biri değildir?

A) Ahmet Mithat Efendi  
B) Namık Kemal  
C) Şinasi  
D) Yahya Kemal Beyatlı  
E) Recaizâde Mahmut Ekrem

6. Gerçeğin hayal dünyasında yeniden şekillendiği metinlere ne ad verilir?

A) Yazılı metin  
B) Hayalî metin  
C) Edebî metin  
D) Hikâye  
E) Kurmaca metin

7. Tanzimat döneminde, aşağıdaki Fransız şair ve yazarların hangisinden çeviri yapılmamıştır?

A) Balzac  
B) Victor Hugo  
C) Lamartine  
D) J.J. Rousseau  
E) Fenelon

8. Tanzimat Fermanı'nı ilan eden kişi aşağıdakilerden hangisidir?

A) I. Mahmut  
B) Vahdettin  
C) II.Mahmut  
D) I.Abdülmecit  
E) II.Abdülhamit

9. Noktalama işaretlerini ilk defa kullanan yazar, aşağıdakilerden hangisidir?

A) Muallim Naci  
B) Şinasi  
C) Namık Kemal  
D) Nabizâde Nazım  
E) Ziya Paşa

10. Aşağıdaki yazarlardan hangisi, Tanzimat döneminde tiyatro uyarlamalarıyla önde gelen sanatçılardan biridir?

A) Şemsettin Sami  
B) Ahmet Cevdet Paşa  
C) Ahmet Vefik Paşa  
D) Orhan Asena  
E) Ziya Paşa

# A

2012 3D 0105-A

11. Türk edebiyatında Recaizâde Mahmut Ekrem tarafından yazılan ilk realist roman, aşağıdakilerden hangisidir?

- A) Araba Sevdası
- B) Taaşuk-ı Talat ve Fitnat
- C) Küçük Şeyler
- D) Son Pişmanlık
- E) Cezmi

12. 1860 yılında Şinasi ve Ağâh Efendi tarafından çıkarılan ilk özel gazete, aşağıdakilerden hangisidir?

- A) Tercüman-ı Ahvâl
- B) Tasvir-i Efkâr
- C) Tercüman-ı Hakikat
- D) İbret
- E) Ceride-i Havadis

13. Sami Paşazâde Sezâî'nin tutsaklık ve insan ticareti üzerine yazmış olduğu eser aşağıdakilerden hangisidir?

- A) Harabat
- B) Küçük Şeyler
- C) İntibah
- D) Araba Sevdası
- E) Sergüzeşt

14. Aşağıdaki şair ve yazarlardan hangisi toplumsal konular yerine bireysel konularda yazmayı yeğleyen sanatçılardan biridir?

- A) Ziya Paşa
- B) Sami Paşazâde Sezaî
- C) Namık Kemal
- D) Şinasi
- E) Ahmet Mithat Efendi

15. Tanzimat şiiri ile ilgili olarak aşağıdakilerden hangisi söylenemez?

- A) Halkın anlayabileceği yalın bir dille yazıldığı
- B) Genelde aruz ölçüsü kullanıldığı
- C) Yeni fikirlerin önceleri eski biçimlerle, daha sonra yeni nazım şekilleriyle ele alındığı
- D) Konu bütünlüğüne önem verildiği
- E) Hak, adalet, hürriyet, esaret, vatan, millet gibi kavramların kullanıldığı

16. 1860 yılında ilk özel gazete "Tercüman-ı Ahvâl"i çıkaran yazarlar aşağıdakilerden hangisinde verilmiştir?

- A) Namık Kemal ve Recaizâde Mahmut Ekrem
- B) Ziya Paşa ve Abdülhak Hâmit
- C) Şinasi ve Ağâh Efendi
- D) Ziya Paşa ve Muallim Naci
- E) Şinasi ve Namık Kemal

17. Aşağıdaki yazarlardan hangisi Birinci Dönem Tanzimat edebiyatının önemli temsilcilerinden biri değildir?

- A) Ziya Paşa
- B) Ahmet Mithat Efendi
- C) Recaizâde Mahmut Ekrem
- D) Namık Kemal
- E) Şinasi

18. Ziya Paşa ile ilgili aşağıdaki bilgilerden hangisi yanlıştır?

- A) Tanzimat Edebiyatı şair ve yazarlarındandır.
- B) Yeni Osmanlılar Cemiyetine girmiştir.
- C) Meşrutiyet yönetimini savunmuştur.
- D) Londra'da "Hüriyet" gazetesini çıkarmıştır.
- E) "Zavallı Çocuk" adlı eseri yazmıştır.

19. İyi bir eğitim alarak yetişen Ali Bey'in düşmüş bir kadınla kurduğu ilişkiden doğan kötü sonuçların ele alındığı "İntibah" romanını kim yazmıştır?

- A) Hüseyin Rahmi Gürpınar
- B) Namık Kemal
- C) Ahmet Mithat Efendi
- D) Muallim Naci
- E) Abdülhak Hâmit Tarhan

20. Romantizmden realizme geçişin bir göstergesi sayılan Sami Paşazâde Sezai tarafından yazılan roman, aşağıdakilerden hangisidir?

- A) Cezmi
- B) İntibah
- C) Sergüzeşt
- D) Eşber
- E) İçli Kız

# GEOMETRİ 5

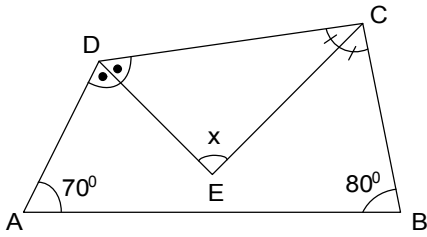
# A

2012 3D 0105-A

1. 6 kenarlı bir konveks çokgenin kaç köşegeni vardır?

A) 9  
B) 12  
C) 15  
D) 18  
E) 21

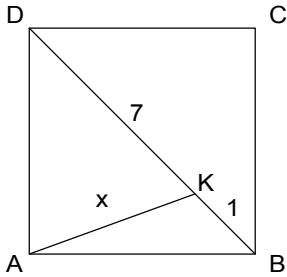
2.



Yukarıdaki dörtgende  $m(\hat{A}) = 70^\circ$  ve  $m(\hat{B}) = 80^\circ$  ise,  $m(\hat{DEC}) = x$  kaç derecedir?

A) 60  
B) 65  
C) 70  
D) 75  
E) 80

3.



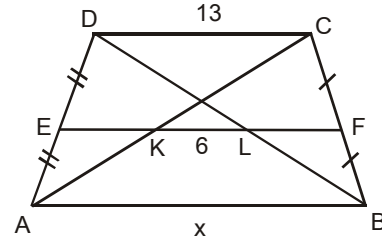
Yukarıdaki ABCD karesinde,  $|BK| = 1$  br,  $|DK| = 7$  br ise  $|KA|$  kaç br'dir?

A) 4  
B) 4,5  
C) 5  
D) 5,5  
E) 6

4. Bir dış açısının ölçüsü  $45^\circ$  olan n kenarlı düzgün bir çokgenin köşegen sayısı kaçtır?

A) 27  
B) 20  
C) 18  
D) 14  
E) 9

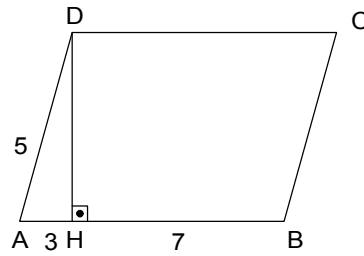
5.



Yukarıdaki ABCD yamuğunda, [EF] orta taban  $|KL| = 6$  cm,  $|CD| = 13$  cm ise,  $|AB| = x$  kaç cm dir?

A) 18  
B) 20  
C) 23  
D) 25  
E) 28

6.



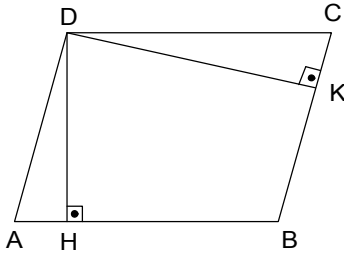
Yukarıdaki ABCD paralelkenarında,  $[AB] \perp [DH]$ ,  $|AH| = 3$  br,  $|AD| = 5$  br ve  $|BH| = 7$  br ise,  $A(ABCD)$  kaç br<sup>2</sup> dir?

A) 20  
B) 36  
C) 40  
D) 48  
E) 60

# A

2012 3D 0105-A

7.



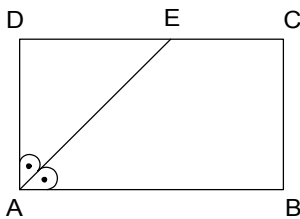
Yukarıdaki ABCD paralelkenarında,  $[DH] \perp [AB]$ ,  $[DK] \perp [BC]$ ,  $|AB| = 12$  br,  $|BC| = 6$  br ve  $|DH| = 4$  br ise,  $|DK|$  kaç br'dir?

- A) 8
- B) 9
- C) 10
- D) 12
- E) 16

8. Köşegenlerinin uzunlukları 10 cm ve 24 cm olan eşkenar dörtgenin çevresi kaç cm dir?

- A) 48
- B) 52
- C) 60
- D) 76
- E) 84

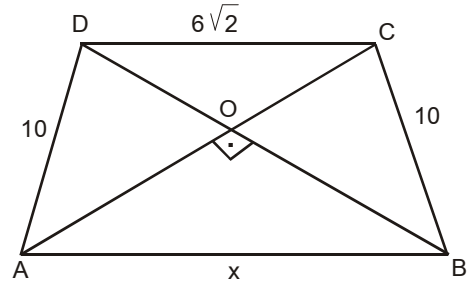
9.



Yukarıdaki ABCD dikdörtgeninde,  $[AE]$  açıortay,  $\frac{|EC|}{|DE|} = \frac{2}{3}$  ve  $A(ABCD) = 60$  br<sup>2</sup> olduğuna göre, ABCD dikdörtgeninin çevresi kaç br dir?

- A) 28
- B) 30
- C) 32
- D) 38
- E) 44

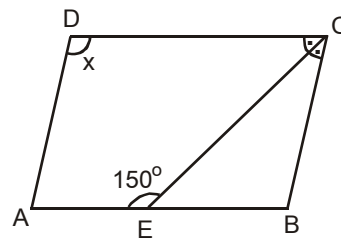
10.



ABCD ikizkenar yamuğunda köşegenler birbirine dik ve  $|AD| = |CB| = 10$  cm,  $|DC| = 6\sqrt{2}$  cm ise,  $|AB| = x$  kaç cm dir?

- A)  $8\sqrt{2}$
- B) 12
- C)  $8\sqrt{3}$
- D) 15
- E)  $10\sqrt{2}$

11.

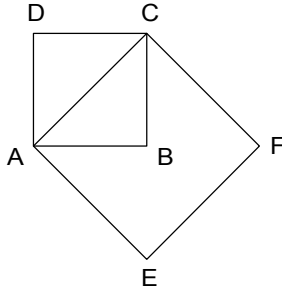


Yukarıdaki ABCD paralelkenarında,  $m(\widehat{DCE}) = m(\widehat{ECB})$  ve  $m(\widehat{AEC}) = 150^\circ$  ise,  $m(\widehat{ADC}) = x$  kaç derecedir?

- A) 100
- B) 110
- C) 120
- D) 135
- E) 140

2012 3D 0105-A

12.



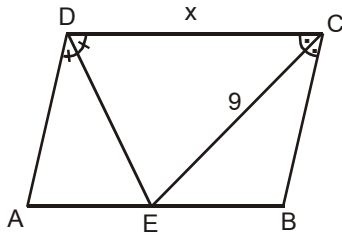
Yukarıdaki şekilde ABCD karesinin alanı  $16 \text{ br}^2$  ise, AEFC karesinin çevresi kaç br dir?

- A) 8
- B)  $8\sqrt{2}$
- C) 16
- D)  $16\sqrt{2}$
- E) 32

13. Bir iç açısının ölçüsü  $140^\circ$  olan bir düzgün çokgenin köşegen sayısı kaçtır?

- A) 14
- B) 20
- C) 27
- D) 32
- E) 35

14.



Yukarıdaki ABCD paralelkenarında, [DE] ve [CE] açıortay,  $|CE| = 9 \text{ cm}$  ve  $A(ABCD) = 108 \text{ cm}^2$  ise,  $|DE| = x$  kaç cm dir?

- A) 15
- B) 14
- C) 13
- D) 12
- E) 10

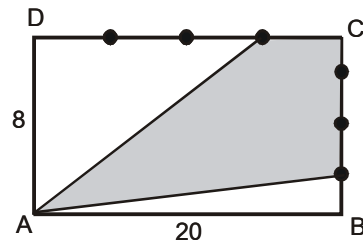
15. Köşegen uzunlukları 12 cm ve 28 cm olan eşkenar dörtgenin alanı kaç  $\text{cm}^2$  dir?

- A) 84
- B) 112
- C) 146
- D) 152
- E) 168

16. Kenar uzunluğu  $2\sqrt{3}$  cm olan eşkenar üçgenin alanı kaç  $\text{cm}^2$  dir?

- A)  $\sqrt{3}$
- B)  $3\sqrt{3}$
- C)  $4\sqrt{3}$
- D)  $6\sqrt{3}$
- E)  $12\sqrt{3}$

17.

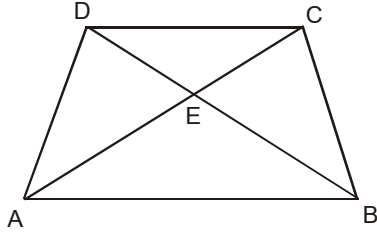


Yukarıdaki ABCD dikdörtgeninde [DC] ve [BC] kenarları dört eşit parçaya bölünmüştür.  $|AB| = 20 \text{ cm}$  ve  $|AD| = 8 \text{ cm}$  ise, taralı bölgenin alanı kaç  $\text{cm}^2$  dir?

- A) 120
- B) 100
- C) 80
- D) 75
- E) 60

2012 3D 0105-A

18.

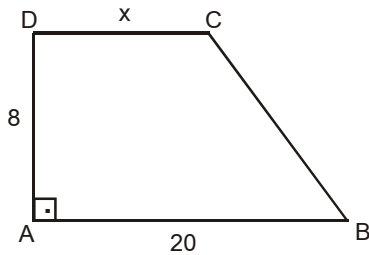


Yukarıdaki ABCD yamuğunda,  $\frac{|CE|}{|AE|} = \frac{1}{4}$  ve,

$A(AED) = 48 \text{ cm}^2$  ise,  $A(AEB)$  kaç  $\text{cm}^2$  dir?

- A) 108
- B) 126
- C) 134
- D) 182
- E) 192

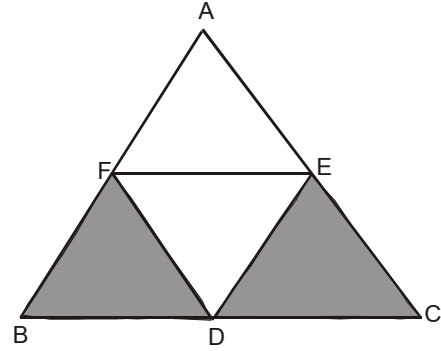
19.



Yukarıdaki ABCD dik yamuğunda  $|AD| = 8 \text{ cm}$ ,  $|AB| = 20 \text{ cm}$  ve  $A(ABCD) = 128 \text{ cm}^2$  ise,  $|DC| = x$  kaç  $\text{cm}$  dir?

- A) 10
- B) 12
- C) 14
- D) 15
- E) 16

20.



Yukarıdaki ABC eşkenar üçgeninde [FE], [FD], [DE] orta taban ve  $A(ABC) = 12\sqrt{3} \text{ cm}^2$  ise, taralı bölgelerin alanları toplamı kaç  $\text{cm}^2$  dir?

- A)  $2\sqrt{3}$
- B)  $3\sqrt{3}$
- C)  $4\sqrt{3}$
- D)  $6\sqrt{3}$
- E)  $8\sqrt{3}$



# SEÇMELİ DİL VE ANLATIM 8

# A

2012 3D 0105-A

1. Divan şiiriyle ilgili aşağıdaki ifadelerden hangisi yanlıştır?

- A) Yüzyıllar boyunca aynı nazım biçimleri ve aynı konuları işlemiştir.
- B) Dili halk şiirine göre daha ağırdır.
- C) Hece ölçüsüyle yazılır.
- D) Nazım birimi beyittir.
- E) Arap ve Fars edebiyatlarının etkisi görülür.

2. Cinaslı sözcüklerin kafiye yapılması en çok nerede görülür?

- A) Koşmalarda
- B) Destanlarda
- C) Tiradlarda
- D) Divan edebiyatında
- E) Manilerde

3. Halk şiirine ilişkin aşağıdaki bilgilerden hangisi yanlıştır?

- A) Türklerin İslamiyeti kabulü öncesinden başlayarak günümüze kadar sümüştür.
- B) Nazım birimi dördüktür.
- C) Ürünler saz eşliğinde söylenmiştir.
- D) Aruz ölçüsü kullanılmıştır.
- E) Konu olarak tabiat güzellikleri, aşk, ayrılık ve gurbet gibi temaları işlemiştir

4. Şiiri oluşturan dörder, beşer ya da daha fazla dizelik kümelere ne ad verilir?

- A) Bend
- B) Beyit
- C) Mısra
- D) Gazel
- E) Mısra-ı berceste

5. Bilim insanlarının bir konunun çeşitli yönlerini inceleyip görüş bildirdikleri toplantılara ne ad verilir?

- A) Açık oturum
- B) Söylev
- C) Münazara
- D) Konferans
- E) Sempozyum

6. Türk edebiyatında makalenin gelişimine bakıldığında 1860'da ilk makale kim tarafından yazılmıştır?

- A) Nefi
- B) Baki
- C) Hüseyin Cahit
- D) Şinasi
- E) Namık Kemal

7. Agah Efendi ve Şinasi'nin 1860'da çıkardıkları ilk özel gazete hangisidir?

- A) Güneş
- B) Tercüman-Ahval
- C) Ceride-i Havadis
- D) Memleket
- E) İntibah

8. Bir sorun üzerinde bütün ilgililerin görüşlerini öğrenmek için yapılan toplantı türüne ne ad verilir?

- A) Konferans
- B) Münazara
- C) Forum
- D) Panel
- E) Söylev

9. Söylenen sözün ya da kavramın gerçek ve mecazlı anlamı dışında büsbütün tersini söyleme sanatı aşağıdakilerden hangisidir?

- A) Kinaye
- B) Cinas
- C) Mecaz-ı mürsel
- D) Temsili istiare
- E) Tariz

10. Milli ölçümüz olarak nitelendirilen ve halk edebiyatında sıkça kullanılan ölçü aşağıdakilerden hangisidir?

- A) Hece ölçüsü
- B) Koşma ölçüsü
- C) Aruz ölçüsü
- D) Serbest ölçü
- E) Halk ölçüsü

# A

2012 3D 0105-A

11. Şiirde art arda gelen mısralar içinde birbirine benzeyen seslerin sık ve ahenk sağlayacak güzellikte kullanılmasına ne ad verilir?

A) Cinas  
B) Uyak  
C) Benzetme  
D) Aliterasyon  
E) Kafiye

12. "Mor menevşe boynun eğmiş  
Yapracığı suya değmiş"

Yukarıdaki dizede en belirgin edebi sanat aşağıdakilerden hangisidir?

A) Kapalı istiare  
B) Açık istiare  
C) Tariz  
D) Mecaz-ı Mürsel  
E) Kinaye

13. Sempozyum ile ilgili aşağıdaki ifadelerden hangisi yanlıştır?

A) Sanat ve bilim konularında uzmanlaşmış kişilerin bir araya gelerek sorunlarını tartışmak, açıklamak ve bir sonuca ulaşmak için yapılır.  
B) İsteyen herkes katılabilir, özel davetli olmak gerekmez.  
C) Her oturumun mutlaka bir başkanı bulunur.  
D) Her sempozyumda önceden belirlenmiş bir konuşmacı grubu bulunur.  
E) Metinler dinleyicilerin dikkatlerini dağıtmadan sunulur.

14. Bir konuyu, bir olayı, bir eseri ele alıp çeşitli özelliklerini ayrıntılarıyla inceleyen ve onunla ilgili birtakım sonuçlara ulaşan ya da bir görüşü, bir iddiayı belge ve kanıtlarla destekleyerek savunan yazılara ne ad verilir?

A) Mülakat  
B) Fıkra  
C) Eleştiri  
D) Deneme  
E) Makale

15. Aşağıdakilerden hangisi klasik Türk şiiri nazım biçimlerinden biri değildir?

A) Rubai  
B) Gazel  
C) Kaside  
D) Semai  
E) Mesnevi

16. Aşağıdakilerden hangisi, Batı etkisinde gelişen Türk Edebiyatı nazım biçimlerinden biridir?

A) Koşma  
B) Sone  
C) Mani  
D) Şarkı  
E) Tuyuğ

17. Makalelerinde sürekli vatan, millet ve hürriyet temalarını işleyen yazar, aşağıdakilerden hangisidir?

A) Hüseyin Cahit Yalçın  
B) Ahmet Emin Yalman  
C) Namık Kemal  
D) Ali Naci Karacan  
E) Şinasi

18. Yazar, düşünür ve sanatçıların veya kendi alanında uzman olan kişilerin bir konuyu açıklamak, tanıtmak, bilgi vermek, öğretmek amacıyla yola çıkarak yaptıkları konuşmalara ne ad verilir?

A) Münazara  
B) Konferans  
C) Açık oturum  
D) Forum  
E) Söylev

19. Hecelerin uzunluk ve kısalığına dayanan ölçü aşağıdakilerden hangisidir?

A) Aruz ölçüsü  
B) Sekizli ölçü  
C) Ahenk ölçüsü  
D) Dize ölçüsü  
E) Hece ölçüsü

20. Aşağıdakilerden hangisi "Münazara" yapılırken uyulması gereken kurallardan biri değildir?

A) Düşünceleri anlaşılır, açık ve kısa söylemek  
B) Söylenmiş düşünceleri, daha önceden verilmiş örnekleri tekrarlamamak  
C) Gerekliğinde tartışma konusunun dışına çıkmak  
D) Toplantılara sorunların çözümü için öneriler hazırlayarak gelmek  
E) Karşıt görüşleri birleştirmeye çalışmak

## SINAVDA UYGULANACAK KURALLAR

1. Sınav süresince görevlilerle konuşmak ve soru sormak yasaktır. Aynı şekilde görevlilerin de öğrencilerle yakından ve alçak sesle konuşmaları yasaktır. Yanınızda ve sıranızda dersle ilgili kitap not vb. bulundurmamak yasaktır. Sınav sırasında kopya yapan, yapmaya teşebbüs eden, kopya veren, kopya yapılmasına yardım edenlerin kimlikleri BİREYSEL SINAV İPTAL TUTANAĞINA yazılacak ve bu öğrencilerin sınavları geçersiz sayılacaktır. Görevliler kopya yapmaya veya vermeye kalkışanları uyarmak zorunda değildir, sorumluluk size aittir.  
Sınavda yetki verilmiş görevliler, bu salondaki sınavın kurallara uygun biçimde yapılmadığını, toplu kopya girişiminde bulunulduğunu raporlarında bildirdikleri veya üniversite sınav merkezince yapılan incelemeler sonucu toplu kopya yapıldığı saptandığı takdirde, Anadolu Üniversitesinin yetkili organları bu salonda sınava giren öğrencilerin tümünün sınavını geçersiz sayar.
2. Öğrenciler sınav sırasında görevlilerin her türlü uyarılarına uymak zorundadır. Gerekğinde görevliler oturduğunuz yerleri değiştirebilir. Sınavınızın geçerli sayılması, her şeyden önce sınav kurallarına uymanıza bağlıdır. Kurallara aykırı davranışta bulunanların ve yapılacak uyarılara uymayanların kimlikleri BİREYSEL SINAV İPTAL TUTANAĞINA yazılacak ve sınavları geçersiz sayılacaktır.
3. Sınav sırasında herhangi bir nedenle dışarı çıkmak yasaktır. Sınavın başlamasını izleyen ilk 30 dakika ve sınav süresinin son 5 dakikası içinde, sınavlarını tamamlasalar bile hiçbir öğrencinin salondan çıkmasına izin verilmeyecektir. Sınavın başlamasını izleyen ilk 15 dakikadan sonra hiç bir öğrenci sınava alınamaz.
4. Biraz sonra soru kitapçıkları dağıtılacaktır. Cevaplamaya geçmeden önce size verilecek soru kitapçığının üzerinde ayrılan yere, adınızı, soyadınızı, öğrenci numaranızı ve bu salonun numarasını yazınız. Sınav sonunda soru kitapçıkları toplanacak ve sınav merkezinde tek tek incelenecektir. Soru Kitapçığının bir tek sayfası eksik çıksa bile sınavınız geçersiz sayılacaktır.
5. Size verilen Cevap Kâğıdının üzerinde yazan numara ve ismin size ait olduğunu kontrol ediniz. Cevap Kâğıdı size ait değilse, görevlileri uyarıp size ait Cevap Kâğıdını alınız. Daha sonra Cevap Kâğıdı üzerinde ayrılmış olan yerlere öğrenci numaranızı ve test grubunuzu kodlayınız, adınızı soyadınızı yazınız ve ilgili yeri imzalayınız.
6. Cevap Kâğıdına yazılacak her türlü yazı, rakam ve yapılacak işaretlemeler için siyah kurşun kalem kullanılacaktır. Tükenmez kalem veya dolmakalem kesinlikle kullanılmayacaktır. Cevapların tümü CEVAP KÂĞIDINA İŞARETLENECEKTİR. Soru Kitapçıkları üzerine yapılan işaretlemeler kesinlikle değerlendirilmez. Her dersin cevabı, o dersin isminin yazılı olduğu sütuna işaretlenmelidir. Yanlış sütuna yapacağınız işaretlemeler kesinlikle değerlendirilmez.
7. Soru Kitapçığının sayfalarındaki boş yerleri müsvedde yapmak için kullanabilirsiniz. Başka bir kâğıdı müsvedde olarak kullanmak yasaktır. Bu tür işlemleri yapanların sınavları geçersiz sayılır.
8. Öğrencilerin sorulara verdikleri yanıtları herhangi bir yere yazmaları ve bunu sınav salonundan dışarıya çıkarmaları yasaktır. Bu kurala uymayanların sınavları geçersiz sayılır.
9. Sınav sırasında öğrencilerin birbirinden kalem, silgi vb. şeyleri istemesi kesinlikle yasaktır. Yasağa uymayanların sınavı geçersiz sayılır.
10. Sınav sırasında hesap makinesi kullanılabilir. Ancak, hesap makinesinin sınav sırasında ödünç alınması, verilmesi ve değiştirilmesi yasaktır. (Data Bank vb. gibi özel elektronik donanımlar kullanılamaz.) Bu tür davranışlarda bulunanların sınavları geçersiz sayılır.
11. Öğrenciler sınava gelirken telsiz, cep telefonu, çağrı cihazı vb. iletişim araçları ile görüntü kaydetmeye yarayan fotoğraf makinesi, kamera vb. araçları getirmemeleri konusunda sınava giriş belgelerinde uyarılmışlardır. Buna rağmen yanlarında bu tür cihazları getirenlerin, bunları sınav sonrasında almak üzere salon başkanına teslim etmeleri gerekir. Bu cihazları sınav salonunda yanlarında bulunduran öğrencilerin, cihazları kapalı bile olsa, o oturumdaki sınavı geçersiz sayılacaktır. Bu cihazların kaybolmasından Üniversitemiz sorumlu olmayacaktır.
12. Biraz sonra dağıtılacak olan soru kitapçığında test ile ilgili açıklamalar yazılıdır. Bu açıklamaları okumadan ve size "SINAV BAŞLAMIŞTIR" denmeden soruları cevaplamaya başlamayınız.

**SINAVLARINIZDA BAŞARILAR DİLERİZ.**